

**Министерство образования и науки Республики Татарстан
РЕСПУБЛИКАНСКАЯ ОЛИМПИАДА ШКОЛЬНИКОВ
ПО ОСНОВАМ БЕЗОПАСНОСТИ И ЗАЩИТЫ РОДИНЫ
(МУНИЦИПАЛЬНЫЙ ЭТАП)**

« _____ » _____ 2025 г.

Республика Татарстан

**ТЕОРЕТИЧЕСКИЙ ТУР
7 - 8 класс**

Впишите свой код/шифр		

Уважаемый участник Олимпиады!

При выполнении заданий теоретического тура Вам предстоит выполнить определенную работу, которую лучше организовать следующим образом:

- не спеша, внимательно прочитайте задание и входящие в него вопросы или ситуации;*
- определите, наиболее верный и полный ответ;*
- если вы отвечаете на теоретический вопрос, обдумайте и сформулируйте конкретный ответ только на поставленный вопрос;*
- если вы отвечаете на предложенную ситуацию, обдумайте порядок и последовательность действий по предложенной ситуации и впишите ответы в схему в той последовательности, которую вы определили, при этом ответ должен быть кратким, но содержать необходимую информацию;*
- если вы отвечаете на задание, связанное с заполнением таблицы, не старайтесь детализировать информацию, вписывайте только те сведения или данные, которые указаны в вопросе или верхних графах;*
- после выполнения всех предложенных заданий еще раз удостоверьтесь в правильности выбранных вами ответов и решений;*

Задание теоретического тура по данной предметной секции считается выполненным, если Вы вовремя сдаете его членам жюри. Время выполнения задания составляет 180 минут.

Желаем вам успеха!

Оценка за Теоретический блок _____ баллов (максимальная 80 балла)

Оценка за Блок тестирования _____ баллов (максимальная 20 баллов)

Оценка результата участника за ТЕОРЕТИЧЕСКИЙ ТУР _____ баллов

(максимально за теоретический тур 100 баллов)

ЗАДАНИЯ ТЕОРЕТИЧЕСКОГО ТУРА

Задание 1. Выполните задание:

А. Вставьте в представленный ниже текст недостающие слова:

Текст

Здоровый образ жизни — это _____ (1) система поведения _____ (2), обеспечивающая ему физическое, _____ (3) и социальное _____ (4) в реальной окружающей среде (природной, техногенной и социальной) и активное _____ (5).

Вариант ответа:

1	
2	
3	
4	
5	

Б. Определите перечень источников простых и сложных углеводов, поставив знак «+» в соответствующие ячейки:

Вариант ответа:

Сложные (медленные) углеводы	Источники	Простые (быстрые) углеводы
	Овсянка	
	Сладости	
	Фасоль	
	Выпечка	
	Гречка	
	Фрукты	
	Нут	
	магазинные соусы	
	Бурый рис	
	Горох	
	Дикий рис	
	Фастфуд	
	Овощи	
	молочные продукты	
	Чечевица	

Оценочные баллы: максимально– 20 баллов;

фактически набранные баллы за задание - _____ .

Подписи членов жюри _____

Задание 2. Наложение жгута – метод для оказания первой помощи при ранениях. Однако использование жгутов требует определенных навыков и

относится к мероприятиям крайней необходимости. Пользоваться жгутами для остановки кровотечения рекомендуется только в двух случаях при артериальном кровотечении и при сдавливании конечностей тела. Перечислите общие правила наложения жгута:

Вариант ответа:

Оценочные баллы: максимально– 5 баллов;
фактически набранные баллы за задание - _____.

Подписи членов жюри _____

Задание 3. Выполните задание:

А. Заполните таблицу указав тип возможных заболеваний в туристском походе:

Вариант ответа:

Вид опасности	Тип заболевания
Неблагоприятные метеорологические условия	
Высокогорье	
Яркий солнечный свет	
Отличный от привычного режима дня , питания	
Длительное физическое напряжение, трудности при передвижении по пересечённой местности с тяжёлым рюкзаком	
Укусы насекомых	


Б. Определите перечень личного снаряжения при подготовке к туристскому походу, поставив знак « + » в соответствующие ячейки.:

Пеший туристский поход	Перечень личного снаряжения, которые обеспечивают безопасность туриста в походе:	Водный туристский поход
------------------------	--	-------------------------

	Аптечка.	
	Налобный фонарик	
	Спальный мешок	
	Специальная обувь	
	Туристический коврик и сидуха	
	Защитная каска	
	Солнце защитные очки и треккинг палки	
	Посуда для приёма пищи и бутылка для воды	
	Спасательный жилет	
	Мембранная куртка	
	Треккинг ботинки	
	Гидрокостюм	
	Гидромешок	

В. Заполните таблицу описав технику завязывания узлов для связывания веревок разного диаметра:

Вариант ответа:

Изображение узла	Техника завязывания	Наименование узла
		<i>Академический узел</i>
		<i>Шкотовый узел</i>
		<i>Брамшкотовый узел</i>

Оценочные баллы: максимально— 21 балл;
фактически набранные баллы за задание - _____.

Подписи членов жюри _____

Задание 4. Заполните таблицу, указав виды селевых потоков по первопричине их возникновения.

Вариант ответа:

Наименование классификации селей	Причины возникновения
	Возникают в результате ливней и затяжных дождей;
	Причина возникновения - интенсивное таяние снега и льда;
	Возникают в результате извержения вулканов;
	Первопричина возникновения сильные землетрясения;
	В результате возникновения озерных плотин;
	Возникают из-за нарушения почвенно-растительного покрова.

Оценочные баллы: максимально– 12 баллов;

фактически набранные баллы за задание - _____.

Подписи членов жюри _____

Задание 5. Выполните задание:







А. Заполните таблицу классификаций АХОВ по основным физико-химическим свойствам и условиям хранения, указав наименования типичных представителей в правом столбце.

Вариант ответа:

Гр.	Характеристики	Типичные представители
1	Жидкие летучие, хранимые в емкостях под давлением (сжатые и сжиженные газы)	
2	Жидкие летучие, хранимые в емкостях без давления	
3	Дымящие кислоты	
4	Сыпучие и твердые нелетучие при хранении до + 40 градусов С	
5	Сыпучие и твердые летучие при хранении до + 40 градусов С	

Б. Установите соответствие между условным знаком безопасности и наименованием соответствующей группы знака.

Вариант ответа:

Условные знаки безопасности	
1	
2	
3	
4	
5	
6	

Название группы знака	
A	Предупреждающие знаки
B	Указательные знаки
C	Предписывающие знаки
D	Знаки пожарной безопасности
E	Эвакуационные знаки и знаки медицинского и санитарного назначения
F	Запрещающие знаки

1	2	3	4	5	6

Оценочные баллы: максимально— 22 балла;

фактически набранные баллы за задание - _____.

Подписи членов жюри _____

Баллы за задания Теоретического блока					
№ задания	1	2	3	4	5
Кол-во баллов					

Подписи председателя жюри _____

Подписи членов жюри _____

ЗАДАНИЯ ТЕОРЕТИЧЕСКОГО ТУРА (Блок тестирования)

№ п/п	Тестовые задания	Макс. балл	Кол-во набранных баллов
1	2	3	4
Определите все правильные ответы			
1.	<p>После проведения оценки обстановки и обеспечения безопасных условий для оказания первой помощи выполняется следующее мероприятие первой помощи:</p> <p>а) определение наличия признаков жизни у пострадавшего;</p> <p>б) проведение подробного осмотра и опроса пострадавшего для выявления состояний, угрожающих его жизни и здоровью;</p> <p>в) проведение обзорного осмотра пострадавшего для выявления продолжающегося наружного кровотечения, его временная остановка (при наличии);</p> <p>г) оказание помощи пострадавшему в принятии лекарственных препаратов</p>	2	
2.	<p>Верны ли следующие суждения? Восстановление проходимости дыхательных путей при оказании первой помощи рекомендуется выполнять:</p> <p>А. посредством запрокидывания головы с подъемом подбородка</p> <p>Б. посредством выдвижения нижней челюсти</p> <p>а) верно только А;</p> <p>б) верно только Б;</p> <p>в) верны оба суждения;</p> <p>г) оба суждения неверны</p>	2	
3.	<p>Наиболее высоким коэффициентом ослабления радиации в жилом пятиэтажном каменном здании обладает:</p> <p>а) 1-й этаж;</p> <p>б) 2-й этаж;</p> <p>в) 3-й этаж;</p> <p>г) 4-й этаж</p>	2	
4	<p>К отравляющим веществам раздражающего действия, временно выводящим из строя, относятся:</p>	2	

	а) Си-эс; б) Люизит; в) Би-зет; г) Ви-икс		
5	По основному назначению топографические карты масштаба 1:25 000 относятся: а) к тактическим; б) к оперативно-тактическим; в) к оперативным; г) к общей оценке местности	2	
6	В каких случаях карта не поможет в ориентировании на местности? а) в сильном тумане; б) в городе; в) на берегу реки;	2	
7	Глубина указывается на топографических знаках, обозначающих: а) такыры; б) солончаки непроходимые; в) солончаки проходимые; г) болота непроходимые;	2	
8	Наиболее эффективным при тушении пожара класса «С» являются: а) воздушно-эмульсионные огнетушители; б) водные огнетушители; в) воздушно-пенные огнетушители; г) порошковые огнетушители	2	
9	К ручному немеханизированному пожарному инструменту относится: а) пневмомолоток; б) багор; в) цепная пила по дереву;	2	
10	Мошенничество с использованием электронных средств платежа является преступлением: а) в сфере компьютерной информации; б) против порядка управления; в) против собственности; г) в сфере экономической деятельности	2	
Количество баллов		max 20	

Оценочные баллы: максимально – 20 баллов;

фактически набранные баллы за Блок тестирования - _____.

Подпись председателя жюри _____

Подписи членов жюри _____

