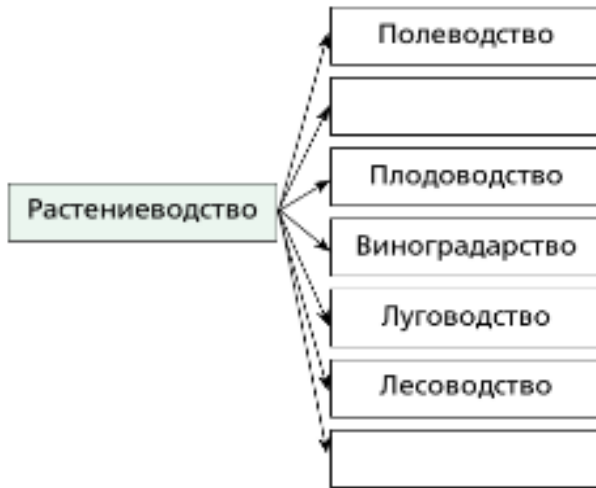


**ВСЕРОССИЙСКАЯ ОЛИМПИАДА ШКОЛЬНИКОВ ПО ТЕХНОЛОГИИ**  
**(ШКОЛЬНЫЙ ЭТАП / ТЕОРЕТИЧЕСКИЙ ТУР)**  
*профиль «КУЛЬТУРА ДОМА, ДИЗАЙН И ТЕХНОЛОГИИ»*  
**возрастная группа (5-6 КЛАССЫ)**

**Общая часть**

**1. Дополните структуру растениеводства.**



**Ответ:** \_\_\_\_\_

**2. Выберите правильный ответ. Дизайнер это:**

- а) специалист по проектированию и строительству зданий;
- б) художник-конструктор, специалист по разработке проектов изделий, в том числе одежды;
- в) специалист в сфере создания стиля и образа человека.

**Ответ:** \_\_\_\_\_

**3. Напишите три названия профессий, относящихся к системе «человек – техника».**

**Ответ:** \_\_\_\_\_

**4. Как называется разница между суммой денег от продажи товаров и услуг и затратами на их производство?**

- а) цена
- б) убыток
- в) прибыль
- г) стоимость товара/услуги.

**Ответ:** \_\_\_\_\_

**5. Расположите электролампы в порядке убывания потребляемой ими электроэнергии при одинаковой мощности.**

- а) светодиодная лампа;
- б) люминесцентная лампа ;
- в) лампа накаливания.

**Ответ:** \_\_\_\_\_

## Специальная часть

6. Укажите, на каком рисунке представлено макраме

А)



Б)



В)



Ответ: \_\_\_\_\_

7. О каком виде декоративно-прикладного творчества идет речь?

*Эта особая техника в декоративно-прикладном искусстве, при которой готовое изделие (картина) получается путем склеивания кусочков определенного материала.*

Ответ: \_\_\_\_\_

8. Дайте правильный ответ.

*Как называются растения с толстыми, сочными стеблями или листьями, характерной особенностью которых, считается способность к запасам воды, путем использования специальных тканей.*

Ответ: \_\_\_\_\_

9. Выберите правильные ответы.

*В каких цветах большинство психологов рекомендуют решать интерьер детской комнаты:*

а) песочный

б) ванильный

в) салатовый

г) фиолетовый

д) светло-голубой

Ответ: \_\_\_\_\_

10. Данный элемент одежды ввела в моду фаворитка короля Карла VI Агнесса Сорель в начале XV века.

*В начале XVIII века его длина строго регламентировалась. Так, королева имела право носить его длиной в одиннадцать локтей.*

*Принцессам крови разрешался длиной в девять локтей, другие представительницы королевского дома могли носить его длиной семь локтей, у всех остальных он не мог превышать трех локтей.*

*Как называется этот элемент одежды?*

Ответ: \_\_\_\_\_

11. Выберите правильный ответ.

*Название мужской одежды в виде продолговатого четырехугольного передника в Древнем Египте:*

- а) плахта;*
- б) дхоти;*
- в) схенти;*
- г) калазирис.*

Ответ: \_\_\_\_\_

12. Выберите правильный ответ.

*Машинная игла состоит из:*

- а) колбы, лыски, лезвия;*
- б) колбы, лезвия, острия;*
- в) лыски, лезвия, желобка.*

Ответ: \_\_\_\_\_

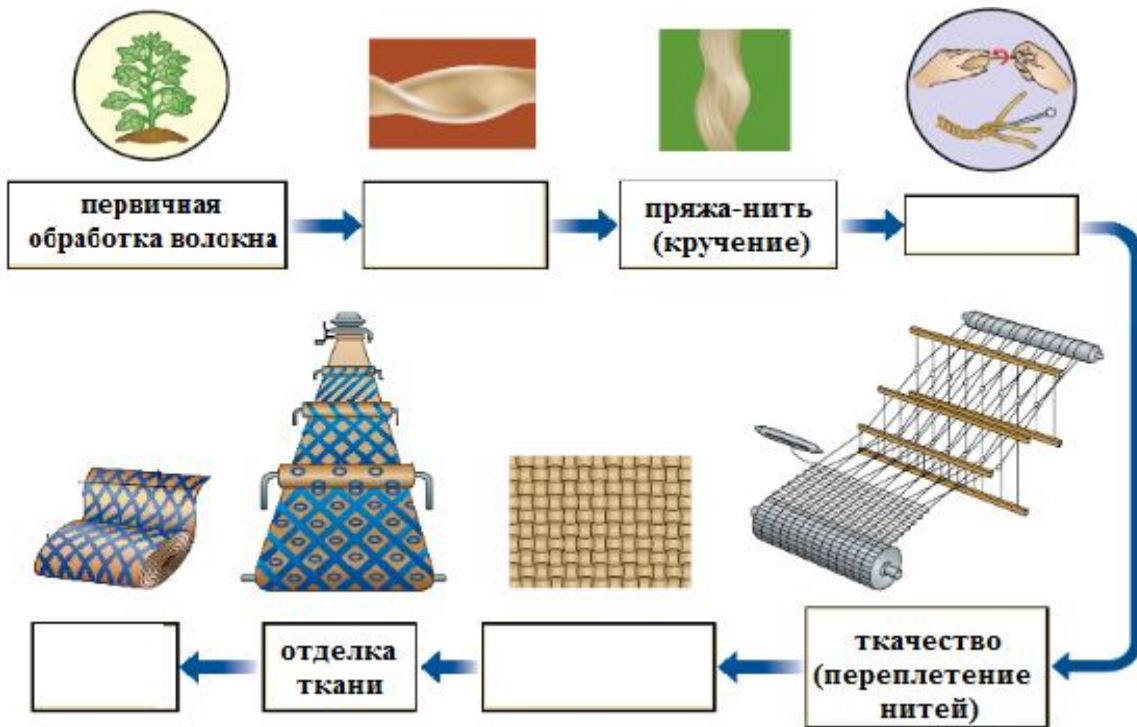
13. Выберите правильный ответ.

*На каком рисунке изображено правильное натяжение нитей машинной строчки*



14. Дополните схему процесса производства ткани.

A)

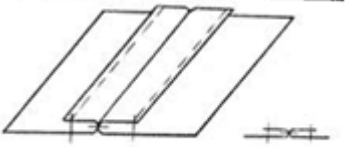
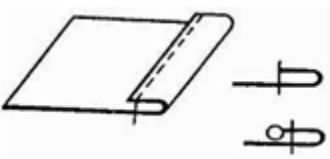
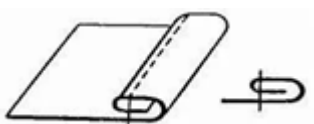


Ответ: \_\_\_\_\_

15. Перечислите свойства тканей, которые необходимо учитывать при выборе вида и фасона изделия, технологии его пошива, а также режима ВТО.

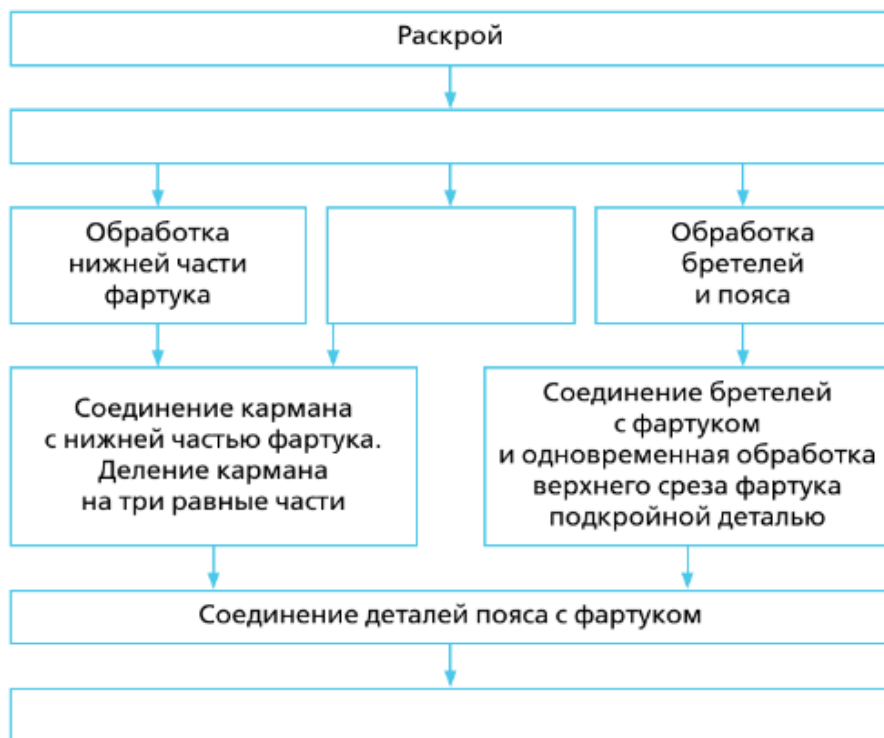
Ответ: \_\_\_\_\_  
 \_\_\_\_\_

16. Какие машинные швы соответствуют следующим условным обозначениям?

<p>1.</p> 	<p>А) Вподгибку с открытым срезом</p>
<p>1.</p> 	<p>Б) Вподгибку с закрытым срезом</p>
<p>2.</p> 	<p>В) Стачной вразутюжку</p>

Ответ: 1. - \_\_\_\_\_, 2. - \_\_\_\_\_, 3. - \_\_\_\_\_

17. Заполните в представленной схеме все ячейки, вписав в них недостающие названия операций по технологической последовательности изготовления цельнокроеного фартука.



18. Какое минеральное вещество способствует нормализации водного обмена в организме?

- а) магний
- б) фосфор
- в) хлор
- г) калий

Ответ: \_\_\_\_\_

19. В середине прошлого века эти изделия были для британцев чем-то вроде деликатеса, который они употребляли в консервированном виде в томатном соусе. Не удивительно, что репортаж Би-би-си 1 апреля 1957 года о небывалом урожае данного изделия в Швейцарии, телезрители Англии восприняли совершенно всерьез.

Чтобы узнать, поверят ли в это британские взрослые, сотрудникам Би-би-си всего-то потребовалось развесить на нескольких деревьях отваренные изделия и попросить рассказать об урожае, известного в те времена всей стране, телеведущего.

Программу посмотрели около 8 млн. человек, и на следующее утро телекомпанию закидали вопросами, где взять саженцы и как вырастить такие деревья в своем саду. Журналисты не растерялись и тут, дав совет всем интересующимся «положить изделие в банку с томатным соусом и надеяться на лучшее».

Что это за изделие?

Ответ: \_\_\_\_\_

*Максимальный балл –20*

***Творческое задание***

*Кроме традиционных деда Мороза, Снегурочки и елки, дом к новогодним праздникам можно украсить фигурками гномов, которых очень полюбили рукодельницы.*

*Разработайте эскиз гнома и сделайте описание.*

*Эскиз*

*Описание*

*Описание игрушки*

*Цветовое решение*



*Используемые материалы*

*Максимальный балл –6*