




Утверждаю  
Директор МБОУ «Аксубаевская СОШ №2»  
Э.Ф.Туктарова  
» декабря 2022 год

План  
проведения недели  
«Формирование функциональной математической грамотности  
в начальной школе»  
2022-2023 учебный год




День недели	Мероприятия	Ответственные
Понедельник 12.12.2022	Оформление кабинетов. Открытие недели математики: 1. На стенах и дверях кабинетов вывешиваются плакаты с высказываниями великих людей о математике и ее важности для других наук. 2. Оформление стенда «Великие математики», с краткими подписями об их достижениях, с биографическими сведениями. Выставка творческих работ: 1 -4 класс- «Числа в загадках, в пословицах и поговорках» 3-4 класс- «Математические ребусы»	Учителя начальных классов
Вторник 13.12.2022	1. День измерений «Мой класс и числа» - измерение объемов кабинетов, площади пола, окон, веса портфеля, количества мальчиков и девочек, общего роста и веса и т.д. 2. Оформление результатов измерений в виде стенгазеты.	Учителя начальных классов
Среда 14.12.2022	Интеллектуальное шоу «Самый, самый» (игры, кроссворды, викторины, конкурсы, ребусы)	Учителя начальных классов
Четверг 15.12.2022	«Бой эрудитов» - викторина по классам (приложение 1)	Учителя начальных классов
Пятница 16.12.2022	1. 1 класс Выставка рисунков «С кем дружат цифры». 2. 2-4 классы Творческие мастерские «Очумелые ручки» Изготовление объемных геометрических фигур.	Учителя начальных классов
Суббота 17.12.2022	Подведение итогов недели	Учителя начальных классов



## «Бой эрудитов» 1-2 класс

ФАМИЛИЯ, имя \_\_\_\_\_

1. Запиши верные ответы (каждый правильный ответ оценивается в 5 баллов).

№	Вопрос	вариант ответа	балл
1.	Бабушка связала 2 пары перчаток. Сколько перчаток связала бабушка?	4	
2.	На заборе сидели 10 птиц. 3 галки, 2 вороны, 2 бабочки улетели. Сколько птиц осталось?	5	
3.	Что тяжелее: 1 килограмм ваты или 1 килограмм железа?	одинаково	
4.	3. Сколько лошадей пасутся на лугу, если у них всего 8 ног?	2	
5.	На тарелке две конфеты, одно пирожное и три груши. Сколько  всего фруктов на тарелке?	3	
6.	Вова гостил у бабушки неделю и 3 дня. Сколько дней Вова гостил у бабушки?	10	
7.	Веревку разрезали в 4 местах. Сколько частей получилось? 	5	
8.		подвал	

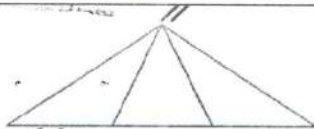
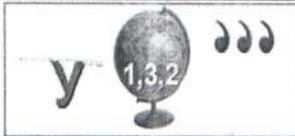




# «Бой эрудитов» 3-4 класс

ФАМИЛИЯ, имя \_\_\_\_\_

1. Запиши верные ответы (каждый правильный ответ оценивается в 5 баллов).

№	Вопрос	вариант ответа	балл										
1.	Шел Кондрат В Ленинград, А навстречу - двенадцать ребят. У каждого по три лукошка, В каждом лукошке - кошка, У каждой кошки - двенадцать котят. У каждого котенка в зубах по четыре мышонка. И задумался Кондрат: «Сколько мышат и котят Ребята несут в Ленинград?»	(В Ленинград шел только Кондрат. Остальные шли в обратную сторону.)											
2.	Пара лошадей пробежала 20 км. Сколько километров пробежала каждая лошадь?	20 км											
3.	Когда мы смотрим на 3, а говорим 15?	Когда смотрим на часы											
4.	У квадрата отрезали два угла, сколько стало углов?	6											
5.	Гусь на двух ногах весит 4 кг. Сколько он весит на одной ноге?	4											
6.	Если этот день не идет вслед за понедельником и не перед четвергом, а завтра не воскресенье, а послезавтра будет не суббота, и позавчера была не среда, что это за день?	воскресенье											
7.	У трех братьев по одной сестре. Сколько детей в семье?	4											
8.	 Сколько треугольников на чертеже?	6											
9.		угол											
10.	Какая фигура должна быть в пустой клеточке?	<table border="1" data-bbox="758 1646 981 1848"> <tbody> <tr> <td></td> <td></td> <td></td> </tr> <tr> <td></td> <td></td> <td></td> </tr> <tr> <td></td> <td></td> <td></td> </tr> </tbody> </table>										Голова- круг, на ногах квадраты, руки- стороны, Мяч- круг	

Итого баллов \_\_\_\_\_