

ПРОЕКТ**Основной государственный экзамен по ГЕОГРАФИИ****Пояснения к демонстрационному варианту
контрольных измерительных материалов основного государственного
экзамена 2021 года по ГЕОГРАФИИ**

**Государственная итоговая аттестация по образовательным
программам основного общего образования в форме
основного государственного экзамена (ОГЭ)**

**Демонстрационный вариант
контрольных измерительных материалов основного
государственного экзамена 2021 года
по ГЕОГРАФИИ**

подготовлен Федеральным государственным бюджетным
научным учреждением
«ФЕДЕРАЛЬНЫЙ ИНСТИТУТ ПЕДАГОГИЧЕСКИХ ИЗМЕРЕНИЙ»

При ознакомлении с демонстрационным вариантом 2021 г. следует иметь в виду, что задания, включённые в демонстрационный вариант, не отражают всех элементов содержания, которые будут проверяться с помощью вариантов КИМ в 2021 г. Полный перечень элементов содержания, которые могут контролироваться на экзамене 2021 г., приведён в кодификаторе элементов содержания и требований к уровню подготовки обучающихся для проведения основного государственного экзамена, размещённом на сайте: www.fipi.ru.



В демонстрационном варианте представлены конкретные примеры заданий, не исчерпывающие всего многообразия возможных формулировок заданий на каждой позиции варианта экзаменационной работы.

Демонстрационный вариант предназначен для того, чтобы дать возможность любому участнику экзамена и широкой общественности составить представление о структуре экзаменационной работы, количеству и форме заданий, а также об их уровне сложности.

В демонстрационном варианте представлено по несколько примеров заданий на некоторые позиции экзаменационной работы. В реальных вариантах экзаменационной работы на каждую позицию будет предложено только одно задание.

Приведённые критерии оценивания выполнения заданий с развёрнутым ответом, включённые в демонстрационный вариант экзаменационной работы, позволят составить представление о требованиях к полноте и правильности записи развёрнутого ответа.

Эти сведения дают будущим участникам экзамена возможность выработать стратегию подготовки к сдаче экзамена по географии в 2021 г.

**Демонстрационный вариант
контрольных измерительных материалов основного
государственного экзамена 2021 года
по ГЕОГРАФИИ**

Инструкция по выполнению работы

Экзаменационная работа состоит из 30 заданий. На выполнение работы по географии отводится 2,5 часа (150 минут).

Ответы к заданиям 1, 4, 5, 6, 11, 16–18 записываются в виде одной цифры, которая соответствует номеру правильного ответа. Эту цифру запишите в поле ответа в тексте работы, а затем перенесите в бланк ответов № 1.

Ответы к заданиям 2, 3, 7–10, 13–15, 19–27, 30 записываются в виде числа, слова (словосочетания) или последовательности цифр. Ответ запишите в поле ответа в тексте работы, а затем перенесите в бланк ответов № 1. Каждый символ пишите в отдельной клеточке в соответствии с приведёнными в бланке образцами. При переносе ответа в виде последовательности цифр на бланк (задания 3, 8, 14, 15, 19–21, 24–26) следует указать только эту последовательность, без запятых, пробелов и прочих символов. Если ответ на задание имеет единицу измерения, то при переносе ответа на бланк следует записать только полученное число. Единицы измерения в ответе указывать не надо.

Работа содержит 3 задания (12, 28 и 29), на которые следует дать развёрнутый ответ. Ответы на эти задания записываются на бланке ответов № 2. Запишите сначала номер задания, а затем ответ на него.

При выполнении работы разрешается использовать географические атласы для 7, 8 и 9 классов, линейку и непрограммируемый калькулятор.

Все бланки заполняются яркими чёрными чернилами. Допускается использование гелевой или капиллярной ручки.

При выполнении заданий можно пользоваться черновиком. **Записи в черновике, а также в тексте контрольных измерительных материалов не учитываются при оценивании работы.**

Баллы, полученные Вами за выполненные задания, суммируются. Постарайтесь выполнить как можно больше заданий и набрать наибольшее количество баллов.

После завершения работы проверьте, чтобы ответ на каждое задание в бланках ответов № 1 и № 2 был записан под правильным номером.

Желаем успеха!

1

Какой из перечисленных географических объектов находится в России?

- 1) самая протяжённая река в мире
- 2) самое глубокое озеро в мире
- 3) самая высокая горная вершина в мире
- 4) самый высокий водопад в мире

Ответ:

2

Вставьте название государства на место пропуска.

Одним из приграничных субъектов РФ является Смоленская область, которая имеет выход к Государственной границе РФ с _____.

Ответ: _____.

3

Расположите регионы России по степени уменьшения естественного плодородия почв на их территории. Запишите в таблицу получившуюся последовательность цифр.

- 1) Архангельская область
- 2) Смоленская область
- 3) Воронежская область

Ответ:

4

Студентам-географам для проведения исследований нужно посетить самый северный участок степи в Европейской части России. Какой из перечисленных заповедников следует посетить студентам?

- 1) Кандалакшский
- 2) Приокско-Террасный
- 3) Таймырский
- 4) Астраханский

Ответ:

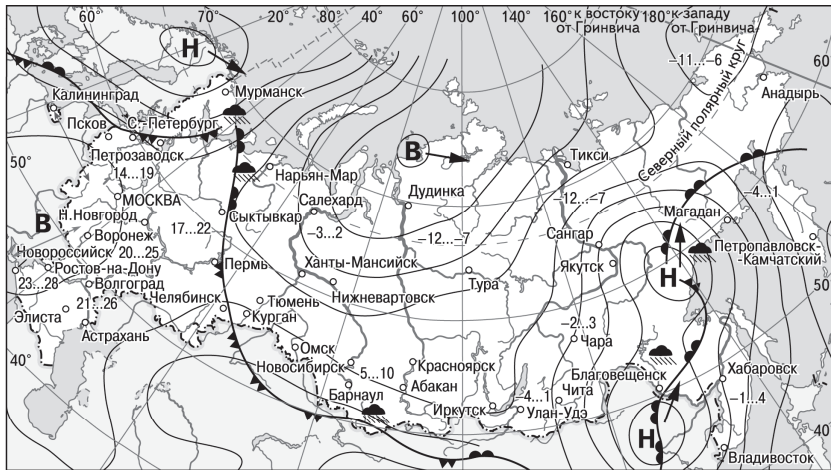
ИЛИ

Традиционными занятиями какого из перечисленных народов являются оленеводство, рыболовство и промысел морского зверя?

- 1) карелы
- 2) чукчи
- 3) марийцы
- 4) чувашы

Ответ:

Задания 5 и 6 выполняются с использованием приведённой ниже карты погоды.



- | | | | |
|----------|---|---------|----------------------------|
| В | Область высокого атмосферного давления | | Тёплый атмосферный фронт |
| Н | Область низкого атмосферного давления | | Холодный атмосферный фронт |
| | Направление перемещения циклонов и антициклонов | 14...19 | Температура воздуха (°C) |
| | | | Дождь |

5 Какой из перечисленных городов, показанных на карте, находится в зоне действия циклона?

- 1) Новороссийск
- 2) Салехард
- 3) Благовещенск
- 4) Тюмень

Ответ:

6 Карта погоды составлена на 27 апреля. В каком из перечисленных городов, показанных на карте, на следующий день наиболее вероятно существенное потепление?

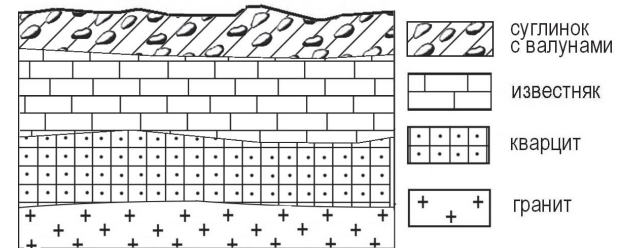
- 1) Благовещенск
- 2) Абакан
- 3) Петрозаводск
- 4) Элиста

Ответ:

7 Определите, какой город, являющийся столицей республики в составе Российской Федерации, имеет географические координаты 62° с.ш. 34° в.д.

Ответ: _____.

8 Во время экскурсии учащиеся сделали схематическую зарисовку залегания горных пород на обрыве в карьере.

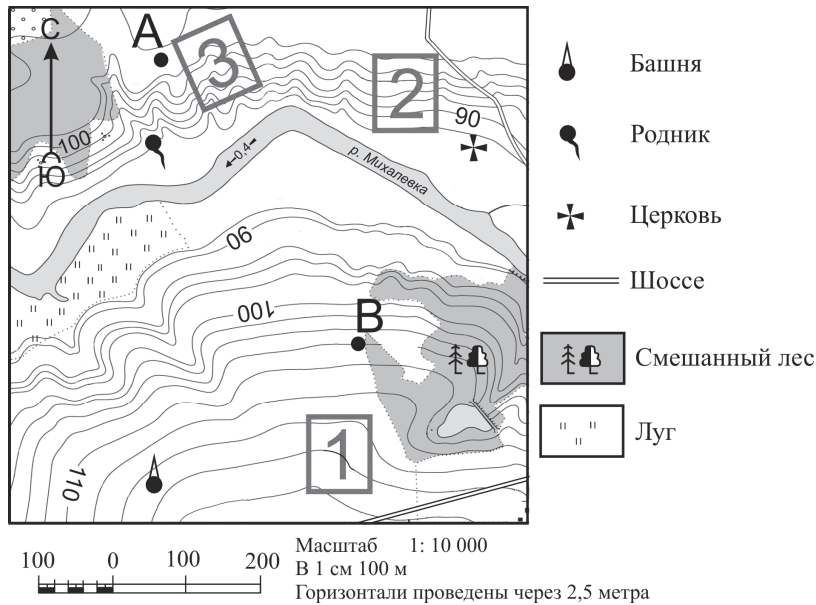


Расположите показанные на рисунке слои горных пород в порядке увеличения их возраста (от самого молодого до самого древнего). Запишите в таблицу получившуюся последовательность цифр.

- 1) известняк
- 2) суглинок с валунами
- 3) кварцит

Ответ:

Задания 9–12 выполняются с использованием приведённого ниже фрагмента топографической карты.



9 Определите по карте расстояние на местности по прямой от родника до церкви. Измерение проводите между центрами условных знаков. Полученный результат округлите до десятков метров. Ответ запишите в виде числа.

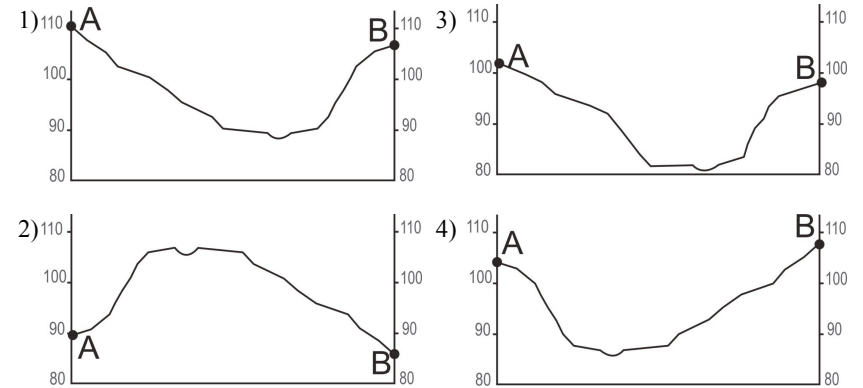
Ответ: _____ м.

10 Определите по карте, в каком направлении от башни находится родник.

Ответ: _____.

11

На рисунках представлены варианты профиля рельефа местности, построенные на основе карты по линии А – В разными учащимися. Какой из профилей построен верно?



Ответ:

12

Фермер выбирает участок для закладки нового фруктового сада. Ему нужен участок, на котором весной рано сходит снег, а летом почва лучше всего прогревается солнцем. Он также должен иметь расположение, удобное для вывоза собранного урожая на консервный завод. Определите, какой из участков, обозначенных на карте цифрами 1, 2 и 3, больше всего отвечает указанным требованиям. Для обоснования Вашего ответа приведите два довода.

Ответ запишите на бланке ответов № 2, указав сначала номер задания.

13

Средняя солёность поверхностных вод Балтийского моря составляет 8‰. Определите, сколько граммов солей растворено в 3 литрах его воды. Ответ запишите в виде числа.

Ответ: _____ г.

14

Снежные лавины – одно из наиболее грозных и опасных природных явлений. В каких двух из перечисленных регионов России снежные лавины представляют наибольшую опасность? Запишите в таблицу цифры, под которыми указаны выбранные регионы.

- 1) Калининградская область
- 2) Республика Северная Осетия – Алания
- 3) Астраханская область
- 4) Архангельская область
- 5) Камчатский край

Ответ:

15

Какие два из перечисленных видов хозяйственной деятельности человека способствуют предотвращению образования оврагов на склонах холмов в зоне лесостепей и степей? Запишите в таблицу цифры, под которыми указаны выбранные виды хозяйственной деятельности человека.

- 1) высаживание деревьев и кустарников
- 2) выпас скота
- 3) продольная распашка территории
- 4) ограничение использования минеральных удобрений
- 5) террасирование склонов

Ответ:

Задания 16 и 17 выполняются с использованием приведённого ниже текста.

Школьники из нескольких населённых пунктов России обменялись данными многолетних метеонаблюдений, полученными на местных метеостанциях. Собранные ими данные представлены в следующей таблице.

Пункт наблюдения	Географические координаты пункта наблюдения	Высота над уровнем моря, м	Средняя температура воздуха, °С		Среднегодовое количество атмосферных осадков, мм
			июль	январь	
Сортавала	61° с.ш. 30° в.д.	17	+16,4	–9,8	570
Вологда	59° с.ш. 40° в.д.	125	+17,0	–11,9	568
Балахна	57° с.ш. 44° в.д.	63	+19,0	–11,6	542
Уфа	54° с.ш. 56° в.д.	104	+19,5	–15,0	569

16

Учащиеся проанализировали собранные данные в целях выявления зависимости между особенностями климата и географическим положением пункта. У всех учащихся выводы получились разные. Кто из учащихся сделал верный вывод на основе представленных данных?

- 1) Алина: «Чем дальше на юго-восток, тем больше среднегодовое количество атмосферных осадков».
- 2) Сергей: «Чем дальше на юго-восток, тем больше среднегодовая амплитуда температуры воздуха».
- 3) Георгий: «Чем севернее, тем ниже температура воздуха в январе».
- 4) Тамара: «Чем выше над уровнем моря расположен пункт, тем прохладней там в июле».

Ответ:

17

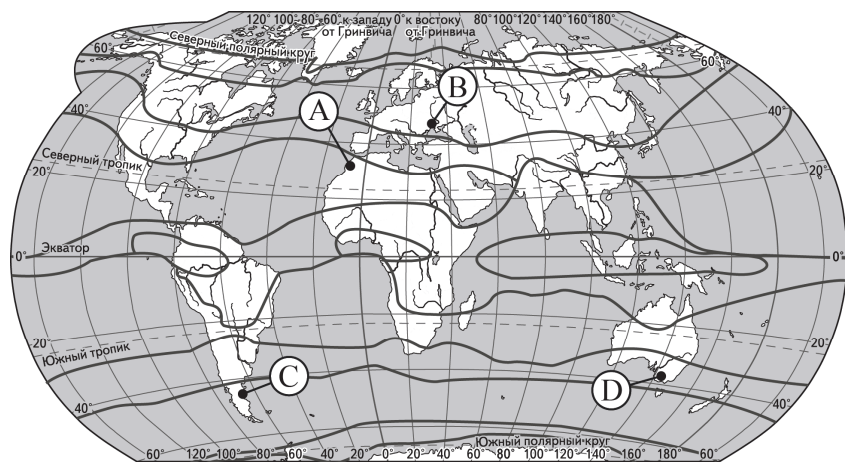
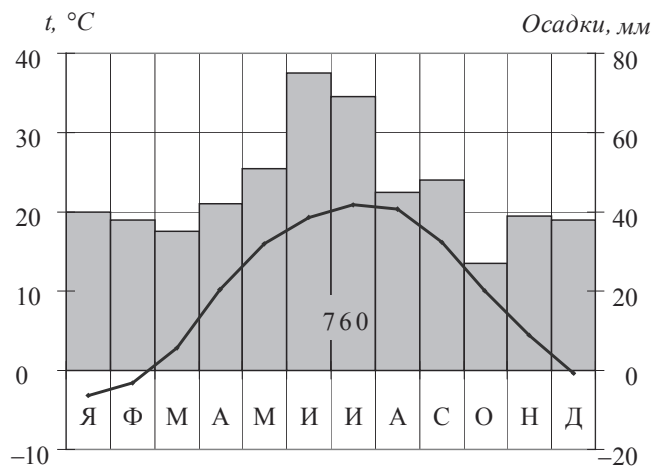
В каком из перечисленных населённых пунктов 22 июня в полдень по местному солнечному времени угол падения солнечных лучей будет наименьшим?

- 1) Сортавала
- 2) Вологда
- 3) Балахна
- 4) Уфа

Ответ:

18

Проанализируйте климатограмму и определите, какой буквой на карте обозначен пункт, характеристики климата которого отражены в климатограмме.



— границы климатических поясов

- 1) A 2) B 3) C 4) D

Ответ:

19

Расположите регионы России в той последовательности, в которой их жители встречают Новый год. Запишите в таблицу получившуюся последовательность цифр.

- 1) Республика Коми
- 2) Омская область
- 3) Хабаровский край

Ответ:

20

Туристические фирмы разных регионов России разработали слоганы (рекламные лозунги) для привлечения туристов в свои регионы. Установите соответствие между слоганами и регионами: к каждому элементу первого столбца подберите соответствующий элемент из второго столбца.

СЛОГАНЫ

РЕГИОНЫ

- | | |
|--|--|
| <p>А) Здесь можно любоваться бесконечным простором озёр, островами и водопадом Кивач!</p> <p>Б) Добро пожаловать на Телецкое озеро – горную жемчужину с неповторимой красотой!</p> | <p>1) Республика Карелия</p> <p>2) Краснодарский край</p> <p>3) Республика Алтай</p> <p>4) Самарская область</p> |
|--|--|

Запишите в таблицу выбранные цифры под соответствующими буквами.

Ответ:

А	Б

21

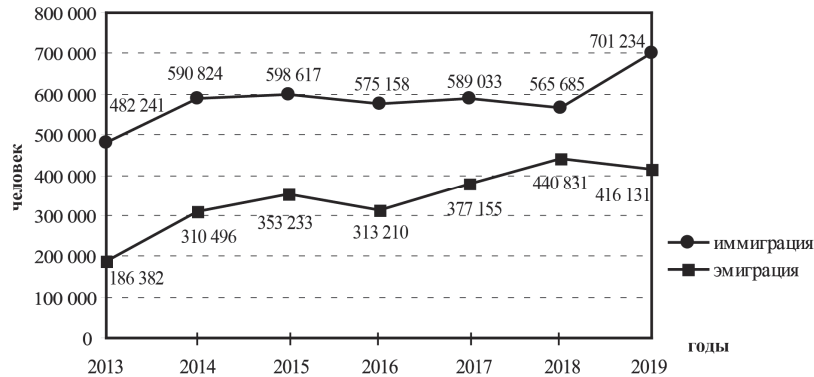
В каких двух из приведённых высказываний содержится информация о воспроизводстве населения? Запишите в таблицу цифры, под которыми указаны выбранные высказывания.

- 1) В XX в. территории крупных городов России быстро росли, при их слиянии с территориями соседних небольших городов возникали городские агломерации.
- 2) В начале 2019 г. средняя плотность населения в Северо-Кавказском федеральном округе была одной из самых высоких в стране – 58 человек на 1 км².
- 3) Естественный прирост в России за последние годы сменился его резкой убылью: если в 2016 г. численность населения увеличилась на 20,3 тыс. человек, то в 2019 г. сократилась почти на 317 тыс. человек.
- 4) В 2018 г. в Северо-Кавказском федеральном округе число родившихся превышало число умерших на 68 453 человека.
- 5) В 2019 г. в РФ на постоянное место жительства из других стран прибыло 701 234 человека, из РФ в другие страны выбыло 416 131 человек.

Ответ:

Задания 22 и 23 выполняются с использованием статистических данных.

Международная миграция в России за период 2013–2019 гг.



22

В каком году из показанных на графике на постоянное место жительства в Россию из других стран въехало наибольшее число людей? Ответ запишите в виде числа.

Ответ: _____ г.

23

Определите величину миграционного прироста населения России в 2018 г. Ответ запишите в виде числа.

Ответ: _____ человек(а).

24

В каких двух из перечисленных регионов России средняя плотность населения наибольшая? Запишите в таблицу цифры, под которыми указаны эти регионы.

- 1) Камчатский край
- 2) Ростовская область
- 3) Мурманская область
- 4) Республика Карелия
- 5) Омская область

Ответ:

25

Расположите перечисленные города в порядке увеличения в них численности населения. Запишите в таблицу получившуюся последовательность цифр.

- 1) Липецк
- 2) Новосибирск
- 3) Псков

Ответ:

26

Какие два из перечисленных городов являются центрами алюминиевой промышленности? Запишите в таблицу цифры, под которыми указаны эти города.

- 1) Красноярск
- 2) Ярославль
- 3) Петрозаводск
- 4) Череповец
- 5) Братск

Ответ:

Задания 27–29 выполняются с использованием приведённого ниже текста.

Зейская ГЭС

Зейская ГЭС расположена на реке Зeya на Дальнем Востоке. Установленная мощность станции составляет 1330 МВт. Решение о строительстве ГЭС было принято еще в 1964 г. В 1980 г. станция была выведена на проектную мощность – 1290 МВт. Тогда же до проектного уровня было заполнено Зейское водохранилище. Ежегодно в регионе в конце лета – начале осени выпадают обильные дожди, приводящие в отдельные годы к переполнению водохранилища, в результате чего приходится производить холостой сброс воды. Это иногда влечёт затопление ряда территорий ниже по течению реки. Самые массовые сбросы воды были произведены в 2007 и 2013 гг.

27 Притоком какой реки является Зeya, на которой построена ГЭС, о которой говорится в тексте?

Ответ: _____.

28 К какому межотраслевому комплексу относится предприятие, о котором говорится в тексте?

Ответ запишите на бланке ответов № 2, сначала указав номер задания.

29 Объясните, с чем связано обильное ежегодное выпадение атмосферных осадков в регионе в конце лета – начале осени, периодически приводящих к необходимости производить сбросы воды из Зейского водохранилища, о которых говорится в тексте.

Ответ запишите на бланке ответов № 2, сначала указав номер задания.

30 Определите регион России по его краткому описанию.

Эта область расположена в Европейской части страны и граничит с зарубежными странами. Большая часть её территории расположена за полярным кругом. Большое значение имеет наличие на её территории железных руд и руд цветных металлов. На территории области работает крупная АЭС.

Ответ: _____ область.



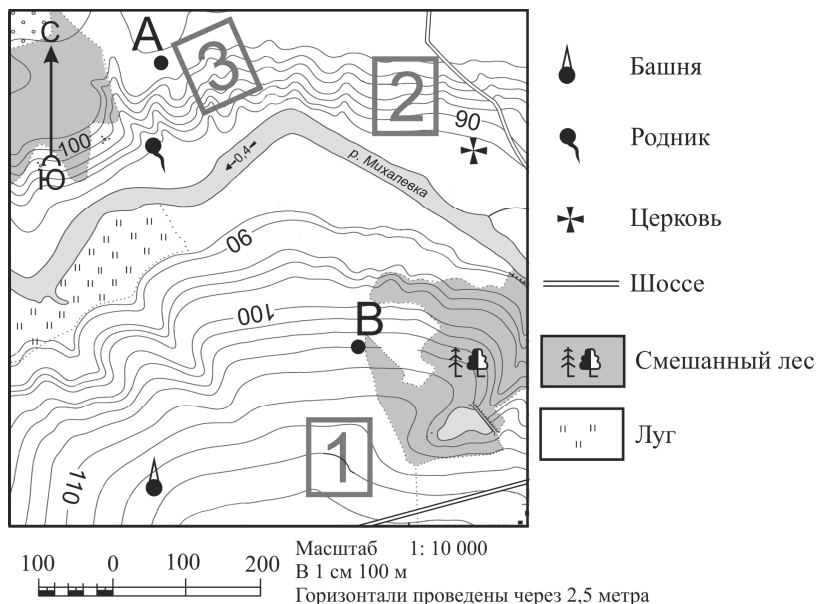
Проверьте, чтобы каждый ответ был записан рядом с номером соответствующего задания.

Система оценивания экзаменационной работы по географии

За верное выполнение заданий 1–11, 13–27, 30 выставляется 1 балл. Задания считаются выполненными верно, если верно указаны требуемые одно-два слова, число, цифра или последовательность цифр.

Номер задания	Правильный ответ
1	2
2	Белоруссия
3	321
4	2 2
5	3
6	1
7	Петрозаводск
8	213
9	400; 410; 420; 430; 440
10	С; Север; в северном
11	4
13	24
14	25
15	15
16	2
17	1
18	2
19	321
20	13
21	34
22	2019
23	124 854
24	25
25	312
26	15
27	Амур
30	Мурманская

Критерии оценивания выполнения заданий с развёрнутым ответом



12

Фермер выбирает участок для закладки нового фруктового сада. Ему нужен участок, на котором весной рано сходит снег, а летом почва лучше всего прогревается солнцем. Он также должен иметь расположение, удобное для вывоза собранного урожая на консервный завод. Определите, какой из участков, обозначенных на карте цифрами 1, 2 и 3, больше всего отвечает указанным требованиям. Для обоснования Вашего ответа приведите два довода.

Ответ запишите на бланке ответов № 2, указав сначала номер задания.

Содержание верного ответа и указания по оцениванию (допускаются иные формулировки ответа, не искажающие его смысла)	Баллы
В ответе говорится, что больше всего указанным требованиям отвечает 1) участок 2. В обосновании приведены следующие доводы: 2) участок находится ближе всего к шоссе; 3) участок находится на склоне южной экспозиции	
Ответ включает в себя все три названных выше элемента	2
Ответ включает в себя два (1-й и 2-й или 1-й и 3-й) из названных выше элементов. ИЛИ В ответе отсутствует 1-й элемент, но говорится, что больше всего указанным требованиям отвечает участок 1, и в обосновании приводится 2-й элемент. ИЛИ В ответе отсутствует 1-й элемент, но говорится, что больше всего указанным требованиям отвечает участок 3, и в обосновании приводится 3-й элемент. ИЛИ В ответе отсутствует 1-й элемент, но в нём верно указаны экспозиция склонов и положение по отношению к шоссе каждого из трёх обозначенных на карте участков	1
Все ответы, которые не соответствуют вышеуказанным критериям выставления оценок в 1 и 2 балла	0
<i>Максимальный балл</i>	2

Зейская ГЭС

Зейская ГЭС расположена на реке Зея на Дальнем Востоке. Установленная мощность станции составляет 1330 МВт. Решение о строительстве ГЭС было принято еще в 1964 г. В 1980 г. станция была выведена на проектную мощность – 1290 МВт. Тогда же до проектного уровня было заполнено Зейское водохранилище. Ежегодно в регионе в конце лета – начале осени выпадают обильные дожди, приводящие в отдельные годы к переполнению водохранилища, в результате чего приходится производить холостой сброс воды. Это иногда влечёт затопление ряда территорий ниже по течению реки. Самые массовые сбросы воды были произведены в 2007 и 2013 гг.

28

К какому межотраслевому комплексу относится предприятие, о котором говорится в тексте?

Ответ запишите на бланке ответов № 2, сначала указав номер задания.

Содержание верного ответа и указания по оцениванию (допускаются иные формулировки ответа, не искажающие его смысла)	Баллы
В ответе говорится о топливно-энергетическом комплексе (ТЭК)	
Ответ содержит названный выше элемент	1
Все ответы, которые не соответствуют вышеуказанному критерию выставления оценки в 1 балл	0
<i>Максимальный балл</i>	<i>1</i>

29

Объясните, с чем связано обильное ежегодное выпадение атмосферных осадков в регионе в конце лета – начале осени, периодически приводящих к необходимости производить сбросы воды из Зейского водохранилища, о которых говорится в тексте.

Ответ запишите на бланке ответов № 2, сначала указав номер задания.

Содержание верного ответа и указания по оцениванию (допускаются иные формулировки ответа, не искажающие его смысла)	Баллы
В ответе говорится о муссонах, приносящих влажные воздушные массы с Тихого океана, ИЛИ об активной циклонической деятельности	
Ответ содержит названный выше элемент	1
Все ответы, которые не соответствуют вышеуказанному критерию выставления оценки в 1 балл	0
<i>Максимальный балл</i>	<i>1</i>

В соответствии с Порядком проведения государственной итоговой аттестации по образовательным программам основного общего образования (приказ Минпросвещения России и Рособнадзора от 07.11.2018 № 189/1513 зарегистрирован Минюстом России 10.12.2018 № 52953),

«64. Экзаменационные работы проверяются двумя экспертами. По результатам проверки эксперты независимо друг от друга выставляют баллы за каждый ответ на задания экзаменационной работы... В случае существенного расхождения в баллах, выставленных двумя экспертами, назначается третья проверка. Существенное расхождение в баллах определено в критериях оценивания по соответствующему учебному предмету.

Третий эксперт назначается председателем предметной комиссии из числа экспертов, ранее не проверявших экзаменационную работу.

Третьему эксперту предоставляется информация о баллах, выставленных экспертами, ранее проверявшими экзаменационную работу обучающегося. Баллы, выставленные третьим экспертом, являются окончательными».

Существенным считается расхождение между баллами, выставленными двумя экспертами за выполнение задания 12, в 2 балла. Третий эксперт проверяет только ответ на задание 12, который вызвал столь существенное расхождение.

Государственная итоговая аттестация по образовательным программам основного общего образования в форме основного государственного экзамена (ОГЭ)

**Кодификатор
проверяемых требований к результатам освоения
основной образовательной программы основного
общего образования и элементов содержания
для проведения основного государственного экзамена по
ГЕОГРАФИИ**

подготовлен Федеральным государственным бюджетным
научным учреждением
«ФЕДЕРАЛЬНЫЙ ИНСТИТУТ ПЕДАГОГИЧЕСКИХ ИЗМЕРЕНИЙ»

**Кодификатор
проверяемых требований к результатам освоения основной
образовательной программы основного общего образования и элементов
содержания для проведения основного государственного экзамена
по ГЕОГРАФИИ**

Кодификатор проверяемых требований к результатам освоения основной образовательной программы основного общего образования и элементов содержания для проведения основного государственного экзамена по географии (далее – кодификатор) является одним из документов, определяющих структуру и содержание контрольных измерительных материалов (далее – КИМ). Кодификатор является систематизированным перечнем проверяемых требований к результатам освоения основной образовательной программы основного общего образования и элементов содержания, в котором каждому объекту соответствует определённый код.

Кодификатор показывает преемственность между положениями федерального государственного образовательного стандарта основного общего образования (приказ Минобрнауки России от 17.12.2010 № 1897) и Федерального компонента государственного стандарта основного общего образования по географии (приказ Минобрнауки России от 05.03.2004 № 1089 «Об утверждении Федерального компонента государственных стандартов начального общего, основного общего и среднего (полного) общего образования»).

Кодификатор состоит из двух разделов:

- раздел 1. «Перечень проверяемых требований к результатам освоения основной образовательной программы основного общего образования по ГЕОГРАФИИ»;
- раздел 2. «Перечень элементов содержания, проверяемых на основном государственном экзамене по ГЕОГРАФИИ».

В кодификатор не включены требования к результатам освоения основной образовательной программы основного общего образования и элементы содержания, достижение которых не может быть проверено в рамках государственной итоговой аттестации.

Раздел 1. Перечень проверяемых требований к результатам освоения основной образовательной программы основного общего образования по ГЕОГРАФИИ

Перечень требований к результатам освоения основной образовательной программы основного общего образования показывает преемственность требований к уровню подготовки выпускников на основе Федерального компонента государственного стандарта основного общего образования по географии и требований к результатам освоения основной образовательной программы основного общего образования на основе ФГОС.

Код раз-дела	Код контролируемого требования	Требования к результатам освоения основной образовательной программы основного общего образования, проверяемые заданиями экзаменационной работы		
		Федеральный компонент государственного стандарта основного общего образования по географии	Федеральный государственный образовательный стандарт основного общего образования по географии	
1	Знать/понимать:			
	1.1	основные географические понятия и термины	Формирование представлений и основополагающих теоретических знаний о целостности и неоднородности Земли как планеты людей в пространстве и во времени, об основных этапах её географического освоения	
	1.2	различия плана, глобуса и географических карт по содержанию, масштабу, способам картографического изображения	Овладение основами картографической грамотности и использования географической карты как одного из языков международного общения	
	1.3	результаты выдающихся географических открытий и путешествий	Формирование представлений о географии, её роли в освоении планеты человеком. Формирование представлений и основополагающих теоретических знаний об основных этапах географического освоения Земли	
	1.4	географические следствия движений Земли, географические явления и процессы в геосферах, взаимосвязь между ними, их изменение в результате деятельности человека	Формирование умений и навыков использования разнообразных географических знаний в повседневной жизни для объяснения и оценки явлений и процессов	

	1.5	географическую зональность и поясность	Формирование представлений и основополагающих теоретических знаний о целостности и неоднородности Земли как планеты людей в пространстве и во времени
	1.6	географические особенности природы материков и океанов, а также географию народов Земли; различия в хозяйственном освоении разных территорий и акваторий; связь между географическим положением, природными условиями, ресурсами и хозяйством отдельных регионов и стран	Формирование представлений и основополагающих теоретических знаний о целостности и неоднородности Земли как планеты людей в пространстве и во времени, об особенностях природы, жизни, культуры и хозяйственной деятельности людей, экологических проблемах на разных материках и в отдельных странах
	1.7	специфику географического положения и административно-территориального устройства Российской Федерации; особенности её природы, населения, основных отраслей хозяйства, природно-хозяйственных зон и районов	Формирование представлений и основополагающих теоретических знаний об особенностях природы, жизни, культуры и хозяйственной деятельности людей, экологических проблемах на разных материках и в отдельных странах
	1.8	природные и антропогенные причины возникновения геоэкологических проблем на локальном, региональном и глобальном уровнях; меры по сохранению природы и защите людей от стихийных природных и техногенных явлений	Формирование представлений об особенностях деятельности людей, ведущей к возникновению и развитию или решению экологических проблем на различных территориях и акваториях, умений и навыков безопасного и экологически целесообразного поведения в окружающей среде / формирование умений и навыков использования разнообразных географических знаний в повседневной жизни для уровня безопасности окружающей среды, адаптации к условиям территории проживания, соблюдения мер безопасности в случае природных стихийных бедствий и техногенных катастроф

2	Уметь:		
	2.1	определять на местности, плане и карте расстояния, направления, высоты точек, географические координаты и местоположение географических объектов	Овладение основами картографической грамотности и использования географической карты как одного из языков международного общения
	2.2	выделять (узнавать) существенные признаки географических объектов и явлений	Формирование представлений и основополагающих теоретических знаний о целостности и неоднородности Земли как планеты людей в пространстве и во времени
	2.3	описывать существенные признаки географических объектов и явлений	Формирование представлений и основополагающих теоретических знаний о целостности и неоднородности Земли как планеты людей в пространстве и во времени, об основных этапах её географического освоения, особенностях природы, жизни, культуры и хозяйственной деятельности людей, экологических проблемах на разных материках и в отдельных странах
2.4	объяснять существенные признаки географических объектов и явлений	Формирование умений и навыков использования разнообразных географических знаний в повседневной жизни для объяснения и оценки явлений и процессов, самостоятельного оценивания уровня безопасности окружающей среды, адаптации к условиям территории проживания, соблюдения мер безопасности в случае природных стихийных бедствий и техногенных катастроф	

	2.5	приводить примеры формирования культурно-бытовых особенностей народов под влиянием среды их обитания, крупнейших сырьевых и топливно-энергетических баз, районов и центров производства важнейших видов продукции, основных коммуникаций и их узлов, внутригосударственных и внешних экономических связей России, а также крупнейших регионов и стран мира	Формирование представлений и основополагающих теоретических знаний об особенностях природы, жизни, культуры и хозяйственной деятельности людей, экологических проблемах на разных материках и в отдельных странах
	2.6	находить в разных источниках информацию, необходимую для изучения географических объектов и явлений, разных территорий Земли, их обеспеченности природными и человеческими ресурсами, хозяйственного потенциала, экологических проблем	Овладение основными навыками нахождения, использования и презентации географической информации
	2.7	анализировать информацию, необходимую для изучения географических объектов и явлений, разных территорий Земли, их обеспеченности природными и человеческими ресурсами, хозяйственного потенциала, экологических проблем	Формирование представлений и основополагающих теоретических знаний о целостности и неоднородности Земли как планеты людей в пространстве и во времени
	2.8	представлять результаты измерений в разных формах, выявлять на этой основе эмпирические зависимости	Овладение основными навыками нахождения, использования и презентации географической информации

3	Использовать приобретённые знания и умения в практической деятельности и повседневной жизни для:		
	3.1	определения поясного времени	Формирование умений и навыков использования разнообразных географических знаний в повседневной жизни для объяснения и оценки явлений и процессов / формирование первичных компетенций использования территориального подхода как основы географического мышления для осознания своего места в целостном, многообразном и быстро изменяющемся мире и адекватной ориентации в нём
	3.2	чтения карт различного содержания	Овладение основами картографической грамотности и использования географической карты как одного из языков международного общения
3.3	решения практических задач по определению качества окружающей среды, её использованию	Формирование умений и навыков использования разнообразных географических знаний в повседневной жизни для объяснения и оценки явлений и процессов, самостоятельного оценивания уровня безопасности окружающей среды, адаптации к условиям территории проживания	

Раздел 2. Перечень элементов содержания, проверяемых на основном государственном экзамене по ГЕОГРАФИИ

Перечень элементов содержания, проверяемых на ОГЭ по географии, показывает преемственность содержания раздела «Обязательный минимум содержания основных образовательных программ» Федерального компонента государственного стандарта основного общего образования по географии и Примерной основной образовательной программы основного общего образования (одобрена решением Федерального учебно-методического объединения по общему образованию (протокол от 08.04.2015 № 1/15)).

Код раздела	Код элемента	Элементы содержания, проверяемые заданиями экзаменационной работы	
		Федеральный компонент государственного основного общего образования	Наличие позиций ФК ГОС в ПООП ООО
1		ИСТОЧНИКИ ГЕОГРАФИЧЕСКОЙ ИНФОРМАЦИИ	
	1.1	Географические модели: глобус, географическая карта, план местности, их основные параметры и элементы (масштаб, условные знаки, способы картографического изображения, градусная сеть)	Изображение земной поверхности. Источники географической информации. Разнообразие современных карт
	1.2	Выдающиеся географические исследования, открытия и путешествия	Развитие географических знаний о Земле. Освоение Земли человеком. Важнейшие географические открытия и путешествия в эпоху Средневековья. Важнейшие географические открытия и путешествия в XVI–XIX вв. Важнейшие географические открытия и путешествия в XX в.
2		ПРИРОДА ЗЕМЛИ И ЧЕЛОВЕК	ПРИРОДА ЗЕМЛИ
	2.1	Земля как планета. Форма, размеры, движение Земли	Земля во Вселенной. Движения Земли и их следствия

	2.2	Земная кора и литосфера. Состав, строение и развитие. Земная поверхность: формы рельефа суши, дна Мирового океана. Полезные ископаемые, зависимость их размещения от строения земной коры и рельефа. Минеральные ресурсы Земли, их виды и оценка	Литосфера. Литосфера – «каменная» оболочка Земли. Внутреннее строение Земли. Земная кора. Разнообразие горных пород и минералов на Земле. Рельеф Земли. Основные формы рельефа – горы и равнины. Рельеф дна океана. Литосфера и рельеф Земли. История Земли как планеты. Литосферные плиты. Сейсмические пояса Земли. Строение земной коры
	2.3	Гидросфера, её состав и строение. Мировой океан и его части, взаимодействие с атмосферой и суши. Поверхностные и подземные воды суши. Ледники и многолетняя мерзлота. Водные ресурсы Земли	Гидросфера. Строение гидросферы. Особенности мирового круговорота воды. Мировой океан и его части. Воды суши. Озёра и их происхождение. Ледники. Мировой океан – основная часть гидросферы. Мировой океан и его части. Система океанических течений
	2.4	Атмосфера. Состав, строение, циркуляция. Распределение тепла и влаги на Земле. Погода и климат. Изучение элементов погоды	Атмосфера. Строение воздушной оболочки Земли. Температура воздуха. Суточный и годовой ход температур и его графическое отображение. Зависимость температуры от географической широты. Атмосфера и климаты Земли. Распределение температуры, осадков, поясов атмосферного давления на Земле и их отражение на климатических картах. Разнообразие климата на Земле. Климатообразующие факторы
	2.5	Биосфера, её взаимосвязи с другими геосферами. Разнообразие растений и животных, особенности их распространения. Почвенный покров. Почва как особое природное образование. Условия образования почв разных типов	Биосфера. Биосфера – живая оболочка Земли. Особенности жизни в океане. Жизнь на поверхности суши

	2.6	Географическая оболочка Земли. Широтная зональность и высотная поясность, цикличность и ритмичность процессов. Территориальные комплексы: природные, природно-хозяйственные	Географическая оболочка как среда жизни. Понятие о географической оболочке. Взаимодействие оболочек Земли. Строение географической оболочки. Понятие о природном комплексе. Географическая оболочка. Свойства и особенности строения географической оболочки. Общие географические закономерности, целостность, зональность, ритмичность и их значение. Географическая зональность
--	-----	---	--

3		МАТЕРИКИ, ОКЕАНЫ, НАРОДЫ И СТРАНЫ	
	3.1	Современный облик планеты Земля. Происхождение материков и впадин океанов. Соотношение суши и океана на Земле	История Земли как планеты. Формирование современного рельефа
	3.2	Население Земли. Численность населения Земли. Человеческие расы, этносы	Человечество на Земле. Численность населения Земли. Расовый состав. Нации и народы планеты. Страны на карте мира
	3.3	Материки и страны. Основные черты природы Африки, Австралии, Северной и Южной Америки, Антарктиды, Евразии. Население материков. Природные ресурсы и их использование. Изменение природы под влиянием хозяйственной деятельности человека. Многообразие стран, их основные типы	Африка. Австралия и Океания. Южная Америка. Антарктида. Северная Америка. Евразия. Географическое положение и история исследования. Рельеф и полезные ископаемые. Климат и внутренние воды. Характеристика и оценка климата отдельных территорий для жизни людей. Природные зоны. Население и политическая карта
4		ПРИРОДОПОЛЬЗОВАНИЕ И ГЕОЭКОЛОГИЯ	Взаимодействие природы и общества
	4.1	Влияние хозяйственной деятельности людей на природу	Влияние закономерностей географической оболочки на жизнь и деятельность людей
	4.2	Основные типы природопользования	Степень воздействия человека на природу на разных материках
	4.3	Стихийные явления в литосфере, гидросфере, атмосфере	
5		ГЕОГРАФИЯ РОССИИ	
	5.1	Особенности географического положения России	Характеристика географического положения России
	5.1.1	Территория и акватория, морские и сухопутные границы	Государственные границы территории России. История освоения и заселения территории России. Водные пространства, омывающие территорию России
	5.1.2	Часовые пояса	Россия на карте часовых поясов. Часовые зоны России
	5.1.3	Административно-территориальное устройство России	Административно-территориальное устройство Российской Федерации

	5.2	Природа России	Общая характеристика природы России
	5.2.1	Особенности геологического строения и распространения крупных форм рельефа	Рельеф и полезные ископаемые России. Геологическое строение территории России. Геохронологическая таблица. Тектоническое строение территории России. Основные формы рельефа России
	5.2.2	Типы климатов, факторы их формирования, климатические пояса. Климат и хозяйственная деятельность людей. Многолетняя мерзлота	Климат России. Характерные особенности климата России и климатообразующие факторы. Климатические пояса и типы климата России
	5.2.3	Внутренние воды и водные ресурсы, особенности их размещения на территории страны	Внутренние воды России. Разнообразие внутренних вод России. Особенности российских рек. Озёра. Классификация озёр. Подземные воды, болота, многолетняя мерзлота, ледники. Водные ресурсы в жизни человека
	5.2.4	Природно-хозяйственные различия морей России	
	5.2.5	Почвы и почвенные ресурсы. Меры по сохранению плодородия почв	Почвы России. Образование почв и их разнообразие на территории России. Земельные и почвенные ресурсы России. Значение рационального использования и охраны почв
	5.2.6	Растительный и животный мир России. Природные зоны. Высотная поясность	Растительный и животный мир России. Разнообразие растительного и животного мира России. Охрана растительного и животного мира. Биологические ресурсы России
	5.3	Население России	Население России
	5.3.1	Численность, естественное движение населения	Численность населения и её изменение в разные исторические периоды. Воспроизводство населения. Показатели рождаемости, смертности, естественного прироста/убыли
	5.3.2	Половой и возрастной состав населения	Характеристика половозрастной структуры населения России
	5.3.3	Размещение населения. Основная полоса расселения	Географические особенности размещения населения России
	5.3.4	Направления и типы миграции	Миграции населения в России. Показатели миграционного прироста/убыли

5.3.5	Народы и основные религии России	Этнический состав населения России. Разнообразие этнического состава населения России. Религии народов России
5.3.6	Городское и сельское население. Крупнейшие города	Расселение и урбанизация. Типы населённых пунктов. Города России их классификация. Городское и сельское население
5.4	Хозяйство России	Хозяйство России
5.4.1	Особенности отраслевой и территориальной структуры хозяйства России	Общая характеристика хозяйства. Географическое районирование. Экономическая и социальная география в жизни современного общества. Понятие хозяйства. Отраслевая структура хозяйства. Сферы хозяйства. Этапы развития хозяйства. Этапы развития экономики России. Географическое районирование
5.4.2	Природно-ресурсный потенциал и важнейшие территориальные сочетания природных ресурсов	
5.4.3	География отраслей промышленности	Главные отрасли и межотраслевые комплексы. Агропромышленный комплекс. Состав АПК. Пищевая и лёгкая промышленность. Лесной комплекс. Целлюлозно-бумажная промышленность. Топливо-энергетический комплекс. Угольная промышленность. Нефтяная и газовая промышленность. Электроэнергетика. Типы электростанций. Metallургический комплекс. Чёрная и цветная металлургия. Машиностроительный комплекс. Особенности размещения. ВПК. Химическая промышленность
5.4.4	География сельского хозяйства	Сельское хозяйство. Растениеводство. Животноводство
5.4.5	География важнейших видов транспорта	Транспорт. Виды транспорта. Сфера обслуживания. Рекреационное хозяйство. Территориальное (географическое) разделение труда

5.5	Природно-хозяйственное районирование России. Географические особенности отдельных районов и регионов: Север и Северо-Запад, Центральная Россия, Поволжье, Юг Европейской части страны, Урал, Сибирь и Дальний Восток. Географическое положение регионов, их природный, человеческий и хозяйственный потенциал	Районы России Европейская часть России. Центральная Россия, Северо-Западный район, Европейский Север. Моря Атлантического океана, омывающие Россию: транспортное значение, ресурсы. Поволжье, Крым, Северный Кавказ. Уральский район. Южные моря России: транспортное значение, ресурсы. Азиатская часть России Западная Сибирь: моря Северного Ледовитого океана: транспортное значение, ресурсы. Восточная Сибирь. Дальний Восток. Моря Тихого океана: транспортное значение, ресурсы.
5.6	Россия в современном мире	Россия в мире

Государственная итоговая аттестация по образовательным программам основного общего образования в форме основного государственного экзамена (ОГЭ)

**Спецификация
контрольных измерительных материалов для проведения
в 2021 году основного государственного экзамена
по ГЕОГРАФИИ**

подготовлена Федеральным государственным бюджетным
научным учреждением
«ФЕДЕРАЛЬНЫЙ ИНСТИТУТ ПЕДАГОГИЧЕСКИХ ИЗМЕРЕНИЙ»

**Спецификация
контрольных измерительных материалов для проведения
в 2021 году основного государственного экзамена
по ГЕОГРАФИИ**

1. Назначение контрольных измерительных материалов (КИМ) ОГЭ

Основной государственный экзамен (ОГЭ) представляет собой форму государственной итоговой аттестации, проводимой в целях определения соответствия результатов освоения обучающимися основных образовательных программ основного общего образования соответствующим требованиям федерального государственного образовательного стандарта. Для указанных целей используются контрольные измерительные материалы (КИМ), представляющие собой комплексы заданий стандартизированной формы.

ОГЭ проводится в соответствии с Федеральным законом «Об образовании в Российской Федерации» от 29.12.2012 № 273-ФЗ и Порядком проведения государственной итоговой аттестации по образовательным программам основного общего образования, утверждённым приказом Минпросвещения России и Рособнадзора от 07.11.2018 № 189/1513.

2. Документы, определяющие содержание КИМ ОГЭ

Содержание КИМ определяется на основе федерального государственного образовательного стандарта основного общего образования (приказ Минобрнауки России от 17.12.2010 № 1897) с учётом Примерной основной образовательной программы основного общего образования (одобрена решением Федерального учебно-методического объединения по общему образованию (протокол от 08.04.2015 № 1/15)).

В КИМ обеспечена преемственность проверяемого содержания с Федеральным компонентом государственного стандарта основного общего образования по географии (приказ Минобрнауки России от 05.03.2004 № 1089 «Об утверждении Федерального компонента государственных образовательных стандартов начального общего, основного общего и среднего (полного) общего образования»).

3. Подходы к отбору содержания, разработке структуры КИМ ОГЭ

В каждый вариант КИМ 2021 г. включены задания, проверяющие уровень знания содержания всех основных разделов курса географии за основную школу и выполнение основных требований к уровню подготовки выпускников.

В КИМ ОГЭ по географии проверяется овладение выпускниками знаниями и умениями, сформированность способности самостоятельного творческого их применения в практической деятельности и в повседневной

жизни. Важное место в КИМ отводится проверке сформированности умений использовать различные источники информации: карты атласов; статистические источники (таблицы, графики, диаграммы), представленные в заданиях; тексты. В экзаменационной модели КИМ ОГЭ контролируется сформированность многих важных умений: выбрать источник, необходимый для решения конкретной задачи; найти и извлечь информацию из источника; представлять в различных формах (графики, таблицы) географическую информацию, необходимую для решения учебных и практико-ориентированных задач; использовать различные источники географической информации (картографические, статистические, текстовые) для решения различных учебных и практико-ориентированных задач.

Количество заданий, проверяющих знание отдельных разделов школьного курса географии, определяется с учётом значимости отдельных элементов содержания и необходимости полного охвата требований к уровню подготовки выпускников. Наибольшее количество заданий проверяет достижение требований к уровню подготовки выпускников по разделу «География России».

4. Связь экзаменационной модели ОГЭ с КИМ ЕГЭ

Значительная часть заданий КИМ для ОГЭ по типу аналогична заданиям, используемым в экзаменационной работе ЕГЭ. В отличие от ЕГЭ, в КИМ для ОГЭ большее внимание уделяется достижению требований, направленных на практическое применение географических знаний и умений. Также важной для ОГЭ является проверка сформированности умения извлекать и анализировать данные из различных источников географической информации (карты атласов, статистические материалы, диаграммы, тексты).

5. Характеристика структуры и содержания КИМ ОГЭ

Экзаменационная работа состоит из 30 заданий.

Работа содержит 27 заданий с записью краткого ответа, из них: 8 заданий с ответом в виде одной цифры, 5 заданий с ответом в виде слова или словосочетания, 14 заданий с ответом в виде числа или последовательности цифр.

Работа содержит 3 задания с развёрнутым ответом, в двух из которых, в заданиях 12 и 28, требуется записать полный обоснованный ответ на поставленный вопрос.

6. Распределение заданий КИМ ОГЭ по содержанию, контролируемым предметным результатам

Распределение заданий по содержательным разделам курса географии показано в таблице 1.

*Таблица 1
Распределение заданий экзаменационной работы
по содержательным разделам курса географии*

Разделы обязательного минимума содержания основного общего образования по географии	Количество ¹ заданий	Максимальный первичный балл	Процент максимального первичного балла за выполнение заданий данного раздела от максимального первичного балла за всю работу, равного 31
1. Источники географической информации	7	8	26
2. Природа Земли и человек	6	6	19
3. Материки, океаны, народы и страны	2	2	6
4. Природопользование и геоэкология	2	2	6
5. География России	13	13	43
Итого	30	31	100

Распределение заданий экзаменационной работы по контролируемым предметным результатам показано в таблице 2.

*Таблица 2.1
Распределение заданий экзаменационной работы
по контролируемым предметным результатам ФГОС*

№	Контролируемые предметные результаты	Количество заданий	Максимальный первичный балл	Процент максимального первичного балла за выполнение заданий данного контролируемого предметного результата от максимального первичного балла за всю работу, равного 31
1	Освоение системы знаний о свойствах и признаках, размещении основных географических объектов	4	4	12,5

¹ Количество заданий по указанным разделам в экзаменационных вариантах может быть различным (см. Приложение).

2	Умение использовать географические знания для описания существенных признаков разнообразных явлений и процессов в повседневной жизни, положения и взаиморасположения объектов и явлений в пространстве	4	4	12,5
3	Умение использовать географические знания для описания существенных признаков разнообразных явлений и процессов в повседневной жизни	3	3	9,5
4	Умение сравнивать изученные географические объекты, явления и процессы на основе выделения их существенных признаков	2	3	9,5
5	Умение выбирать и использовать источники географической информации (картографические), необходимые для решения учебных, практико-ориентированных задач, а также практических задач в повседневной жизни	3	3	9,5
6	Овладение базовыми географическими понятиями и знаниями географической терминологии	4	4	12,5
7	Умение представлять в различных формах (в виде карты, таблицы, графика, географического описания) географическую информацию, необходимую для решения учебных и практико-ориентированных задач	1	1	3
8	Умение решать практические задачи геоэкологического содержания для определения качества окружающей среды своей местности	1	2	6,5
9	Овладение базовыми географическими понятиями и знаниями географической терминологии; умение устанавливать взаимосвязи между изученными природными, социальными и экономическими явлениями и процессами	4	4	12,5

10	Умение оценивать характер взаимодействия деятельности человека и компонентов природы в разных географических условиях с точки зрения концепции устойчивого развития	2	2	6,5
11	Умение классифицировать географические объекты и явления на основе их известных характерных свойств	1	1	3
12	Умение устанавливать взаимосвязи между изученными природными, социальными и экономическими явлениями и процессами / умение объяснять влияние изученных географических объектов и явлений на качество жизни человека и качество окружающей его среды	1	1	3
Итого		30	31	100

*Таблица 2.2
Распределение заданий экзаменационной работы
по контролируемым предметным результатам ФК ГОС*

Основные умения и способы действий	Количество заданий	Максимальный первичный балл	Процент максимального первичного балла за выполнение заданий данного вида учебной деятельности от максимального первичного балла за всю работу, равного 31
1. Требования «Знать/понимать»	13	13	42
2. Требования «Уметь»	14	14	45
3. Требования «Использовать приобретённые знания и умения в практической деятельности и повседневной жизни»	3	4	13
Итого	30	31	100

7. Распределение заданий КИМ ОГЭ по уровням сложности

В работе используются задания базового, повышенного и высокого уровней сложности. Задания базового уровня имеют планируемый процент выполнения 60–90; повышенного уровня – 40–60; высокого – менее 40. Распределение заданий КИМ по уровням сложности показано в таблице 3.

Таблица 3

Распределение заданий экзаменационной работы по уровням сложности

Уровень сложности заданий	Количество заданий	Максимальный первичный балл	Процент максимального первичного балла за выполнение заданий данного уровня сложности от максимального первичного балла за всю работу, равного 31
Базовый	15	15	48,4
Повышенный	13	14	45,1
Высокий	2	2	6,5
Итого	30	31	100

8. Продолжительность ОГЭ по географии

На выполнение экзаменационной работы отводится 150 минут.

9. Дополнительные материалы и оборудование

Перечень дополнительных материалов и оборудования, пользование которыми разрешено на ОГЭ, утверждается приказом Минпросвещения России и Рособнадзора. На экзамене по географии разрешается пользоваться линейкой, непрограммируемым калькулятором и географическими атласами для 7–9 классов (любого издательства).

10. Система оценивания выполнения отдельных заданий и экзаменационной работы в целом

Верное выполнение каждого задания с кратким ответом оценивается 1 баллом. За выполнение задания 12 с развёрнутым ответом в зависимости от полноты и правильности ответа выставляется от 0 до 2 баллов, выполнение заданий 28 и 29 с развёрнутым ответом оценивается 1 баллом.

Максимальное количество первичных баллов за выполнение всей экзаменационной работы – 31.

В соответствии с Порядком проведения государственной итоговой аттестации по образовательным программам основного общего образования (приказ Минпросвещения России и Рособнадзора от 07.11.2018 № 189/1513 зарегистрирован Минюстом России 10.12.2018 № 52953),

«64. Экзаменационные работы проверяются двумя экспертами. По результатам проверки эксперты независимо друг от друга выставляют баллы за каждый ответ на задания экзаменационной работы... В случае

существенного расхождения в баллах, выставленных двумя экспертами, назначается третья проверка. Существенное расхождение в баллах определено в критериях оценивания по соответствующему учебному предмету.

Третий эксперт назначается председателем предметной комиссии из числа экспертов, ранее не проверявших экзаменационную работу.

Третьему эксперту предоставляется информация о баллах, выставленных экспертами, ранее проверявшими экзаменационную работу. Баллы, выставленные третьим экспертом, являются окончательными».

Существенным считается расхождение между баллами, выставленными двумя экспертами за выполнение задания 12, в 2 балла. Третий эксперт проверяет только ответ на задание 12, который вызвал столь существенное расхождение.

На основе баллов, выставленных за выполнение всех заданий работы, подсчитывается суммарный первичный балл, который переводится в отметку по пятибалльной шкале.

11. Изменения в КИМ 2021 года по сравнению с 2020 годом

Изменения структуры и содержания КИМ отсутствуют.

**Обобщённый план варианта КИМ ОГЭ 2021 года
по ГЕОГРАФИИ**

Уровни сложности заданий: Б – базовый; П – повышенный; В – высокий.

№	Контролируемые предметные результаты ФК ГОС / предметные результаты ФГОС	Коды требований контролируемых предметных результатов	Коды проверяемых элементов содержания	Уровень сложности задания	Максимальный балл за выполнение задания	Примерное время выполнения задания (мин.)
1	Знать и понимать географические особенности природы материков и океанов, народов Земли, различия в хозяйственном освоении разных территорий и акваторий, результаты выдающихся географических открытий и путешествий / освоение знаний о свойствах, признаках, размещении основных географических объектов / понимание роли географии в формировании качества жизни человека и окружающей его среды на планете Земля	1.6, 1.3/1.1, 1.2	1.1–5.6	Б	1	3
2	Знать специфику географического положения России / умение использовать географические знания для описания положения и взаиморасположения объектов и явлений в пространстве	1.7/5	5.1	Б	1	3
3	Знать и понимать особенности природы России / умение сравнивать изученные географические объекты, явления и процессы на основе выделения их существенных признаков	1.7/4	5.2	П	1	3
4	Уметь приводить примеры формирования культурно-бытовых особенностей народов под влиянием среды их обитания; уметь находить в разных источниках информацию, необходимую для изучения экологических проблем / умение выбирать и использовать источники географической информации (картографические), необходимые для решения учебных, практико-ориентированных задач, а также практических задач в повседневной жизни	2.5; 2.6/9	3.2, 5.2, 5.3	Б	1	3

5	Понимать географические явления и процессы в геосферах / овладение базовыми географическими понятиями и знаниями географической терминологии	1.4/3	2.4	Б	1	3
6	Уметь анализировать информацию, необходимую для изучения разных территорий Земли / умение использовать географические знания для описания существенных признаков разнообразных явлений и процессов в повседневной жизни, положения и взаиморасположения объектов и явлений в пространстве	2.7/7	2.4	Б	1	3
7	Уметь определять на карте географические координаты / умение использовать географические знания для описания положения и взаиморасположения объектов и явлений в пространстве	2.1/7	1.1	П	1	4
8	Знать и понимать географические явления и процессы в геосферах / умение сравнивать изученные географические объекты, явления и процессы на основе выделения их существенных признаков	1.4/4	2.2	Б	1	5
9	Уметь определять на карте расстояния / использовать источники географической информации (картографические), необходимые для решения учебных, практико-ориентированных задач, а также практических задач в повседневной жизни	2.1/7	1.1	Б	1	4
10	Уметь определять на карте направления / умение использовать географические знания для описания положения и взаиморасположения объектов и явлений в пространстве	2.1/7	1.1	Б	1	4
11	Уметь использовать приобретённые знания и умения в практической деятельности и повседневной жизни для чтения карт различного содержания / умение представлять в различных формах (в виде карты, таблицы, графика, географического описания) географическую информацию, необходимую для решения учебных и практико-ориентированных задач	3.2/10	1.1	В	1	6

12	Уметь использовать приобретённые знания и умения в практической деятельности и повседневной жизни для решения практических задач по определению качества окружающей среды своей местности, её использованию / умение решать практические задачи геоэкологического содержания для определения качества окружающей среды своей местности	3.3/12	1.1	П	2	15
13	Знать и понимать основные термины и понятия; уметь использовать приобретённые знания и умения в практической деятельности и повседневной жизни для решения практических задач / овладение базовыми географическими понятиями и знаниями географической терминологии; сравнивать изученные географические объекты, явления и процессы на основе выделения их существенных признаков	1.1, 3.3/3, 4	2.3, 2.4, 3.3, 4.1, 5.4	Б	1	5
14	Знать и понимать природные и антропогенные причины возникновения геоэкологических проблем, меры по сохранению природы и защите людей от стихийных природных и техногенных явлений / умение оценивать характер взаимодействия деятельности человека и компонентов природы в разных географических условиях с точки зрения концепции устойчивого развития	1.8/11	4.1, 4.2	Б	1	4
15	Знать и понимать природные и антропогенные причины возникновения геоэкологических проблем, меры по сохранению природы и защите людей от стихийных природных и техногенных явлений / умение оценивать характер взаимодействия деятельности человека и компонентов природы в разных географических условиях с точки зрения концепции устойчивого развития / классифицировать географические объекты и явления на основе их известных характерных свойств	1.8/11, 5	4.1, 4.2	П	1	5

16	Уметь выявлять на основе представленных в разных формах результатов измерений эмпирические зависимости / умение устанавливать взаимосвязи между изученными природными, социальными и экономическими явлениями и процессами, реально наблюдаемыми географическими явлениями и процессами	2.8/6	2.1, 2.4	П	1	6
17	Понимать географические следствия движений Земли / освоение системы знаний об основных географических закономерностях	1.4/2	2.1	П	1	5
18	Уметь анализировать информацию, необходимую для изучения разных территорий Земли / умение использовать источники географической информации (картографические, статистические), необходимые для решения учебных задач	2.7/9	2.4	П	1	5
19	Уметь использовать приобретённые знания и умения в практической деятельности и повседневной жизни для определения поясного времени / использовать географические знания для описания существенных признаков разнообразных явлений и процессов в повседневной жизни, положения и взаиморасположения объектов и явлений в пространстве	3.1/9	5.1	П	1	5
20	Знать и понимать особенности природы, населения, основных отраслей хозяйства, природно-хозяйственных зон и районов России, связь между географическим положением, природными условиями, ресурсами и хозяйством отдельных стран / освоение системы знаний о свойствах, признаках и размещении основных географических объектов	1.6, 1.7/1	5.5, 3.3	Б	1	5
21	Уметь выделять (узнавать) существенные признаки географических объектов и явлений / овладение базовыми географическими понятиями и знаниями географической терминологии	2.2/3	2.2–2.6, 5.3	П	1	5
22	Уметь находить информацию, необходимую для изучения разных территорий Земли, их обеспеченности природными и человеческими ресурсами / умение использовать источники географической информации (статистические), необходимые для решения учебных задач	2.6/9	2.4, 5.3, 5.4	Б	1	4

23	Уметь анализировать информацию, необходимую для изучения географических объектов и явлений, разных территорий Земли, их обеспеченности природными и человеческими ресурсами / овладение базовыми географическими понятиями и знаниями географической терминологии	2.7/3	2.4, 5.3, 5.4	П	1	4
24	Знать и понимать особенности населения России / умение использовать географические знания для описания существенных признаков разнообразных явлений и процессов в повседневной жизни, положения и взаиморасположения объектов и явлений в пространстве	1.7/7	5.3	Б	1	4
25	Уметь использовать приобретённые знания и умения в практической деятельности и повседневной жизни для чтения карт различного содержания / выбирать и использовать источники географической информации (картографические), необходимые для решения учебных, практико-ориентированных задач, а также практических задач в повседневной жизни	3.2/9	5.3	П	1	5
26	Знать и понимать особенности основных отраслей хозяйства России, природно-хозяйственных зон и районов / освоение системы знаний о свойствах, признаках, размещении основных географических объектов	1.7/1	5.4, 5.5	П	1	5
27	Уметь определять на карте местоположение географических объектов / умение использовать географические положения и взаиморасположения объектов и явлений в пространстве	2.1/7	1.1, 1.2–5.5	Б	1	4

28	Знать и понимать основные географические понятия и термины; приводить примеры: природных ресурсов, их использования и охраны, крупнейших сырьевых и топливно-энергетических баз, районов и центров производства важнейших видов продукции, основных коммуникаций и их узлов, внутригосударственных и внешних экономических связей России, а также крупнейших регионов и стран мира / овладение базовыми географическими понятиями и знаниями географической терминологии, умение классифицировать географические объекты и явления на основе их известных характерных свойств, умение использовать географические знания для описания существенных признаков разнообразных явлений и процессов в повседневной жизни	1.1, 2.5, 2.6/3, 5, 7	1.1–5.5	Б	1	7
29	Уметь объяснять существенные признаки географических объектов и явлений / умение устанавливать взаимосвязи между изученными природными, социальными и экономическими явлениями и процессами / умение объяснять влияние изученных географических объектов и явлений на качество жизни человека и качество окружающей его среды	2.4/6, 8	2.1–5.5	В	1	10
30	Уметь выделять (узнавать) существенные признаки географических объектов и явлений / умение использовать географические знания для описания существенных признаков разнообразных явлений и процессов в повседневной жизни	2.2/7	2.6, 3.3, 5.3, 5.5	П	1	6

Всего заданий – **30**; из них по типу заданий: с кратким ответом – **27**; с развёрнутым ответом – **3**; по уровню сложности: Б – **15**; П – **13**; В – **2**.
 Максимальный первичный балл – **31**.
 Общее время выполнения работы – **150 минут**.