

ВСЕРОССИЙСКАЯ ОЛИМПИАДА ШКОЛЬНИКОВ ПО ОБЩЕСТВОЗНАНИЮ

2024-2025 учебный год

ШКОЛЬНЫЙ ЭТАП

8 класс

Уважаемый участник!

При выполнении работы внимательно читайте текст заданий.

Содержание ответа вписывайте в отведённые поля, запись ведите чётко и разборчиво.

Максимальное количество баллов – 50

Время на выполнение работы – 90 минут

Желаем успеха!

Задание 1. Верны ли следующие утверждения.	
1	Мораль и право имеют тесную связь
2	Под воздействием рекламы потребители чаще совершают рациональный выбор
3	Принцип разделения властей законодательно закреплялся еще в Древней Греции
4	Экономика средневекового общества основывалась на натуральном типе хозяйствования
5	Преступления и проступки различаются, в первую очередь, степенью общественной опасности

Задание 2. Решите логическую задачу.

В логике есть понятие «умозаключение», означающее мыслительные действия, в результате которых из нескольких принятых суждений получается новое утверждение – следствие. Выберите все следствия, вытекающие из приведённых ниже суждений.

А. Некоторые кошки зевают.

Б. Все кошки бегают ночью.

Варианты ответов:

1. Все кошки, кто зевает, бегают ночью.
2. Все кошки, кто бегают ночью, зевают.
3. Если кошка бегают ночью, то она зевает.
4. Некоторые кошки, кто зевает, бегают ночью.
5. Есть кошки, которые бегают ночью и не зевают.
6. Некоторые кошки, кто бегают ночью, зевают.
7. Если кошка зевает, значит, она бегают ночью.
8. Все кошки зевают.
9. Некоторые кошки бегают ночью.
10. Любая кошка бегают ночью.

Ответ:

Задание 3. Решите экономическую задачу.

Типография «Буконика» печатает книги в количестве 10 тыс. штук и продаёт их в партиях по 1000 штук. Каждая партия стоит 30000 рублей. Для производства печатной продукции типография нанимает 10 рабочих, каждому из которых выплачивает 2000 рублей, арендует помещение стоимостью 70 000 рублей, а также закупает бумагу на 10000 рублей.

3.1. Определите размер прибыли фирмы до уплаты налогов.

Ответ:

3.2. Типография может выбрать наиболее выгодный для себя налоговый режим: платить налог с продаж в размере 20 % или налог с прибыли в размере X %. Найдите максимальную величину X, при которой типографии выгоднее будет платить налог с продаж или безразлично, какой налоговый режим выбрать. В ответе укажите только цифру (X).

Ответ:

3.3. Типография повысила стоимость своей продукции – теперь каждая партия стоит 50000 рублей. Определите величину X, при которой фирме выгоднее платить налог с продаж (20 %), чем налог на прибыль (X %) в изменившихся обстоятельствах.

Ответ.

Задание 4. Решите правовые задачи.

4.1. Установите соответствие между предметами ведения Российской Федерации и предметами совместного ведения РФ и субъектов РФ согласно Конституции РФ:

1. Предметы исключительного ведения Российской Федерации

2. Предметы совместного ведения РФ и субъектов РФ

А. Регулирование и защита прав и свобод человека и гражданина; гражданство в Российской Федерации;

Б. Разграничение государственной собственности;

В. Защита прав и свобод человека и гражданина, обеспечение законности, правопорядка, общественной безопасности;

Г. Установление общих принципов налогообложения и сборов в Российской Федерации;

Д. Федеральная государственная собственность и управление ею;

Е. Внешняя политика и международные отношения Российской Федерации;

Ж. Гражданское законодательство, правовое регулирование интеллектуальной собственности;

З. Адвокатура, нотариат;

И. Судебное устройство; прокуратура.

1 –

2 –

4.2. Ответьте на вопрос. Свой ответ обоснуйте.

Гражданин Российской Федерации Зарипов закончил в г. Набережные Челны высшее учебное заведение и получил специальность в области культурологии. Он решил переехать в г. Москву, чтобы найти соответствующую своим зарплатным ожиданиям работу.

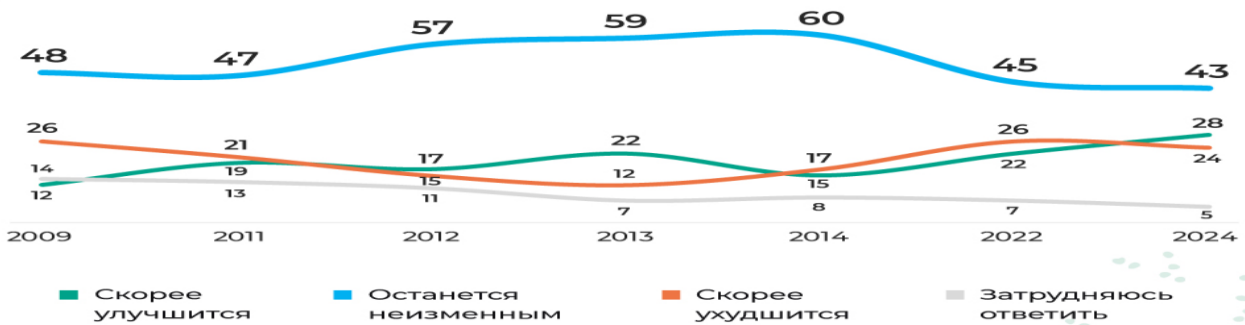
Может ли гражданин Зарипов переехать в г. Москву для постоянного проживания?

Ответ:

Задание 5. Результаты научных исследований часто представляют визуально, с помощью инфографики. Ознакомьтесь с инфографикой и выберите суждения, которые можно сделать на основании представленной информации

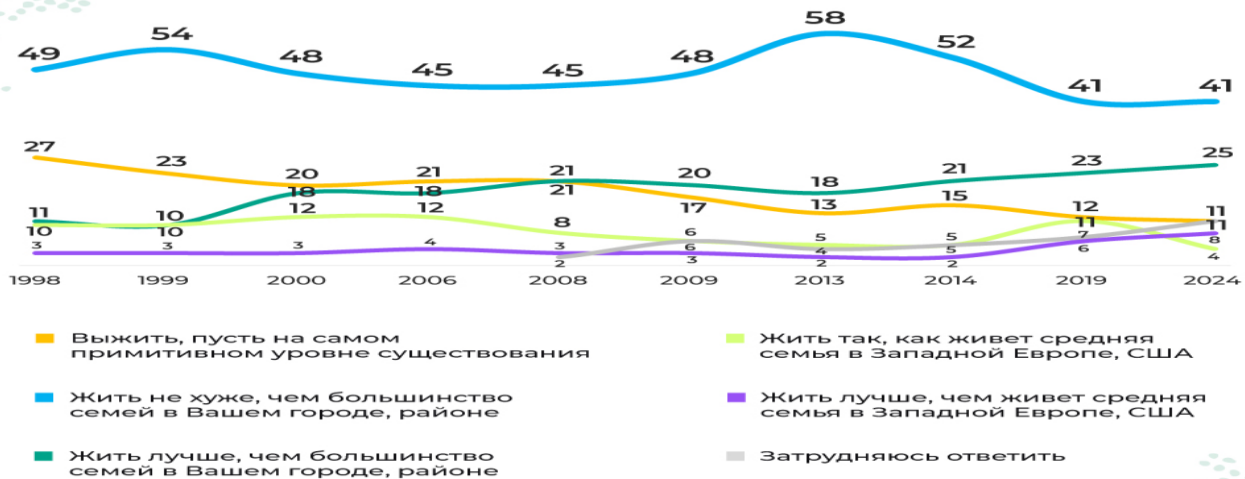
НАШЕ МАТЕРИАЛЬНОЕ БУДУЩЕ: ОЖИДАНИЯ И НАДЕЖДЫ

Как Вы считаете, как изменится материальное положение Вашей семьи, родственников, живущих вместе с Вами, в ближайший год?
(закрытый вопрос, один ответ, % от всех опрошенных)



*ДО 2017 Г. ОПРОСЫ ПРОВОДИЛИСЬ МЕТОДОМ ПОКВАРТИРНЫХ FACE-TO-FACE ИНТЕРВЬЮ (ПРОЕКТ «ЭКСПРЕСС»).

Если говорить о жизни вашей семьи, какие цели Вы, члены вашей семьи, ставите перед собой?
(закрытый вопрос, один ответ, % от всех опрошенных)




*ДО 2017 Г. ОПРОСЫ ПРОВОДИЛИСЬ МЕТОДОМ ПОКВАРТИРНЫХ FACE-TO-FACE ИНТЕРВЬЮ (ПРОЕКТ «ЭКСПРЕСС»).

Как Вы думаете, начиная с какой суммы денег в рублях можно сказать, что человек имеет сбережения? Какую минимальную сумму денег можно, по вашему мнению, назвать сбережениями?

(открытый вопрос, один ответ, усеченное среднее в рублях*)

ДОСТАТОЧНАЯ СУММА ДЛЯ СБЕРЕЖЕНИЙ В ПРЕДСТАВЛЕНИЯХ РОССИЯН –



499 218 рублей

минимальный размер сбережений в 2013 г. – **143 314** рублей

*СРЕДНЕЕ ЗНАЧЕНИЕ, ВЫЧИСЛЕННОЕ БЕЗ УЧЕТА 2.5% НАИМЕНЬШИХ И 2.5% НАИБОЛЬШИХ ЗНАЧЕНИЙ, ИСПОЛЬЗУЕТСЯ ДЛЯ МИНИМИЗАЦИИ ВЛИЯНИЯ ВЫБРОСОВ.

1. Пиковым процентным количеством опрошенных, считающих, что материальное состояние их близких окружающих никак не изменится, пришлось на 2024 год – 43% соответственно.
2. По результатам социологического исследования можно сказать, что с 2014 года наблюдается тенденция к росту процентного количества респондентов, ожидающих увеличения материального благосостояния их близких.
3. Процент тех, кто прогнозировал для своих семей и родственников ухудшение материального положения, был одинаковым в 2009 и 2022 году и составлял 26%.
4. В общем, процент ориентации респондентов на западный уровень жизни в 2024 году составил всего 14 процентов от общего количества в этом году.
5. В 1998 году наблюдалось то, что главной целью для больше чем четверти опрошенных стало выживание хотя бы и на самом примитивном уровне существования.
6. Можно пронаблюдать резкий скачок в 2024 году тех, кто желает жить лучше, чем большинство семей в районе или городе проживания опрошенных по сравнению с 2014 годом.
7. В 2013 году средним значением среди опрошенных для того, чтобы назвать сумму минимальным размером сбережений, стала сумма в 143 314 рублей.
8. Достаточной же суммой для сбережений в представлениях россиян является сумма, превышающая полмиллиона рублей.

Ответ:

Задание 6. Укажите термин:		
1	Форма (область) культуры, направленная на выработку системы объективных знаний о мире, закономерностях развития природы, общества и мышления.	
2	Экономическое соперничество субъектов экономики за право получения большей доли определенного вида ограниченных ресурсов.	
3	Наличие в стране трудоспособных граждан, которые желают трудиться по найму при сложившемся уровне оплаты труда, но не могут найти работу по своей специальности или трудоустроиться вообще.	
4	Процесс обесценивания денег, который проявляется в виде долговременного повышения цен на товары и услуги.	
5	Форма правления, где верховная власть принадлежит единоличному правителю (монарху) и которая, как правило, передается по наследству.	
6	Осуществляющийся на протяжении всей жизни человека процесс формирования личности, развития социально значимых качеств человека.	